

KASIM AYI KDS SINAVI SORULARI VE CEVAP ANAHTARI

5.SINIF						
SORU NO	TÜRKÇE	SOSYAL BİLGİLER	DİKAB	YABANCI DİL	MATEMATİK	FEN BİLİMLERİ
1	C	C	İPTAL	D	C	C
2	A	D	A	C	C	B
3	İPTAL	B	D	D	A	D
4	A	D	C	C	A	B
5	C	A	B	B	C	C
6	B	B	C	A	B	A
7	D	C	A	B	B	B
8	D	B	D	D	D	D
9	B	C	C	C	D	D
10	A	C	C	B	C	A

6.SINIF						
SORU NO	TÜRKÇE	SOSYAL BİLGİLER	DİKAB	YABANCI DİL	MATEMATİK	FEN BİLİMLERİ
1	B	C	D	B	C	C
2	A	B	C	B	B	B
3	A	A	C	D	D	A
4	C	D	D	B	C	B
5	D	D	D	A	B	D
6	C	C	C	A	C	B
7	D	A	C	D	D	B
8	B	A	B	C	D	B
9	D	B	C	A	C	D
10	B	C	A	A	A	B

7.SINIF						
SORU NO	TÜRKÇE	SOSYAL BİLGİLER	DİKAB	YABANCI DİL	MATEMATİK	FEN BİLİMLERİ
1	A	A	D	C	D	D
2	B	D	C	B	A	B
3	C	B	D	C	A	B
4	D	B	B	A	B	B
5	B	C	C	B	B	B
6	A	D	B	C	D	C
7	A	A	C	B	A	A
8	C	C	D	C	D	A
9	B	B	B	C	A	C
10	D	D	B	B	C	İPTAL

8.SINIF						
SORU NO	TÜRKÇE	SOSYAL BİLGİLER	DİKAB	YABANCI DİL	MATEMATİK	FEN BİLİMLERİ
1	C	C	A	C	D	C
2	B	D	C	C	C	B
3	C	D	C	A	C	D
4	D	A	D	C	D	A
5	A	C	C	D	D	B
6	A	A	C	C	B	B
7	B	B	D	D	B	C
8	B	C	A	B	D	B
9	C	A	B	D	A	D
10	D	B	B	B	A	C

## 5. SINIF TÜRKÇE DERSİ

	<u>CÜMLE</u>	GERÇEK	MECAZ
1	Oldum olası <u>sevimsiz</u> insanlardan kaçırım	✓	
2	Ders sırasında <u>nazik</u> bakışlarıyla etkiliyordu.		✓
3	Yemek için ekmekleri çok <u>ince</u> kesmelisin		✓
4	Çıkmasınlar diye kapının <u>kolunu</u> sökmüştü	✓	

Yukarıdaki tablodaki numaralı cümlelerin hangisinde altı çizili sözcüğün anlam özelliği **yanlış** işaretlenmiştir?

- A) 1      B) 2      C) 3      D) 4

1	Hamur pürüzsüz bir hal alınca kabın üzerini hava almayacak şekilde kapatın 3 saat kadar mayalanmaya bırakın. Tezgâhı unlayın. Hamuru koyun ve üzerini de unlayın. 2 parçaya bölün Yarım saat daha dinlendirin.
2	Suyu yavaş yavaş una eklemeye başlayın. İyice karıştırın ve 10 dakika bekleyin. Dinlenen hamuru 10 dakika daha yoğurun.
3	Tüm kuru malzemeyi karıştırma kabına alın. Suya mayayı ekleyip maya eriyinceye kadar karıştırın.
4	Dinlenen hamurlara şekil verin. Fırın tepsisine yağlı kağıt serin. Hamuru aktarın. Önceden ısıtılmış 225 derecede ekmekleri pişirin

Numaralanmış bölümlerden bir paragraf oluşturulmak istense sıralama aşağıdakilerden hangisi olur?

- A) 3-2-1-4      B) 1-3-4-2  
C) 3-1-4-2      D) 2-4-3-1

3. Türkçe Öğretmeni Mustafa Bey, öğrencilerinden kökler konusunda örnekler istemiştir. Öğretmenin isteğine öğrenciler aşağıdaki kelimeleri örnek olarak vermiştir.

Öğretmen	Kökü isim olan beş kelime söyle?
Ali	Yazlık, gözük, düzenli, dağcılık ve havalı
Öğretmen	Kökü fiil olan dört kelime söyle.
Oya	Gelecekler, yazdık, ağlamıştım ve yorgun
Öğretmen	Uç isim köklü bir fiil köklü kelime söyle.
Mesut	Yabancı, kazandık, yazıcı ve yolculuk
Öğretmen	İki isim köklü iki fiil köklü kelime söyle.
Buğra	Güçürmek, kapıcı, açlık ve gezi

Buna göre öğrencilerden hangisi öğretmenin isteğine **yanlış** örnek vermiştir?

- A) Ali      B) Oya      C) Mesut      D) Buğra

4. Aşağıdaki atasözlerinden hangisi farklı bir konuyu ifade etmektedir?

- A) El elden üstündür.  
B) Bir elin nesi var, iki elin sesi var.  
C) Bir el bir eli yıkar, iki el bir yüzü yıkar.  
D) Yalnız taş duvar olmaz.

1-	Bir kelimenin kendisinden sonra gelen kelime veya kelime gruplarıyla yapı ve anlam bakımından bağlantısı olmadığını göstermek ve anlam karışıklığını önlemek için kullanılır: <b>Örnek:</b> Bu gece, eğlenceleri içlerine sinmedi.
2-	Cümle içinde ara sözcükleri veya ara cümleleri ayırmak için ara sözcüklerin veya ara cümlelerin başına ve sonuna konur: <b>Örnek:</b> Zemin bu kadar koyu bir kırmızıya dönüşünce, bir an için de olsa, belirginliğini yitiriverdi sivilceleri.
3-	Birbiri ardınca sıralanan eş görevli kelime ve kelime gruplarının arasına konur: <b>Örnek:</b> Umduk, bekledik, düşündük.
4-	Anlama güç kazandırmak için tekrarlanan kelimeler arasına konur: <b>Örnek:</b> Akşam, yine akşam, yine akşam, Göllerde bu dem bir karniş olsam!

Virgülle ilgili yapılan açıklamalarda hangisinde verilen örnek açıklamaya uygun değildir?

- A) 1      B) 2      C) 3      D) 4

6. Ahırın avlusunda oynarken aşağıda, gümüş söğütler altında görünmeyen derenin hüznü şırıltısını işitirdik. Evimiz iç çitin büyük kestane ağaçları arkasında kaybolmuş gibiydi. Annem, İstanbul'a gittiği için benden bir yaş küçük olan kardeşim Hasan'la artık Dadaruh'un yanından hiç ayrılmıyorduk. Bu, babamın seyisi, yaşlı bir adamdı. En sevdiğimiz şey atlardı. Dadaruh'la birlikte onları suya götürmek, çıplak sırtlarına binmek, ne doyulmaz bir zevkti. Hasan korkar, yalnız binemezdi. Dadaruh onu kendi önüne alırdı.

**Bu parçada aşağıdaki hikaye unsurlarından hangisine değinilmemiştir?**

- A) Olay      B) Zaman      C) Şahıs      D) Yer

7. Aşağıdaki cümlelerin hangisinde büyük harflerin kullanımıyla ilgili bir yazım yanlışı vardır?

- A) 16 Mart Pazartesi günü, doğum gününü kutlayacak.  
B) Mehmet Efendi'yi mahalledeki herkes severdi.  
C) Van Gölü Türkiye'nin en büyük gölüdür.  
D) İnsanı Dünya'ya bağlayan tek şey umuttur.

8. \*Orada bulunmayan bir kimsenin adını anmak  
\* Uyarmak için hafif bir ceza vermek  
\* Dikkatli bir biçimde dinlemek
- “**Kulak**” sözcüğü ile yapılan deyimlerden hangisi yukarıdaki anlamlarla eşleştirildiğinde dışta kalır?
- A) Öğretmenin söylediklerine kulak kesildi.  
B) Babana söyleyeyim de biraz kulağını çeksin.  
C) Dün akşam epey kulağını çınlattık.  
D) Annem kardeşime göz kulak olmamı istedi.
9. Lösemi ya da halk arasındaki tabiri ile kan kanseri kemik iliğinde blast ismini verdiğimiz kötü huylu kan hücrelerinin kontrolsüz çoğalması sonucu ortaya çıkan bir hastalıktır. Tam olarak kanıtlanmamışsa da genetik bozulmalara yol açan ve günlük hayatta sıkça karşılaştığımız; kimyasal maddeler,gıdalardaki katkı maddeleri, kullanılan ilaçlar, radyasyona maruz kalma suçlanan faktörler arasındadır. Her yaşta görülebilmesine karşın, özellikle çocuklarda 2-5 yaş arasında daha sık görülmektedir.  
**Yukarıdaki paragrafta lösemi hastalığı ile ilgili bilgi verilmiştir. Paragrafta aşağıdaki sorulardan hangisine cevap verilmemiştir?**
- A) Lösemi nedir ve nasıl oluşmaktadır?  
B) Lösemi tedavisi nerde ve nasıl yapılmaktadır?  
C) Lösemi en çok hangi dönemde görülmektedir?  
D) Lösemi hastalığının sebepleri nelerdir?
10. “Çocuğumuza özgüven ve sorumluluk duygusunu verebilmek için onlara müdahale edebileceğimiz uzaklıkta ama asla işe karışan durumda olmamalıyız. İşte o zaman çocuklarımız büyümeye, sorumluluk duygusunu kazanmaya, kendilerine güven duymaya başlayacaklardır.”
- “**Başlamak**” kelimesi aşağıdaki cümlelerin hangisinde metindeki anlamıyla aynı doğrultudadır?
- A) Sevgi, bir bakışla kalpte başlar.  
B) Beste yapmaya küçük yaşlarda başlamıştı.  
C) Meslek hayatı da oldukça başarılı başladı.  
D) Kış başlarken yapraklar döküldü.

### SOSYAL BİLGİLER-5

1. Tabloda Anadolu uygarlıklarının insanlık tarihine yaptıkları katkılara örnekler verilmiştir.

			Doğru	Yanlış
1	Hititler	Tekerlek		✓
2	Frigler	Fibula	✓	
3	Lidyalılar	Tapates	✓	
4	Urartular	Şarman	✓	

**Buna göre yukarıda hangi numara ile gösterilen yerde hata yapılmıştır?**

- A) 1      B) 2      C) 3      D) 4

2. Ali, 5. Sınıf Sosyal Bilgiler dersinde Sümer uygarlığıyla ilgili yaptığı araştırmada aşağıdaki bilgilerden hangisine ulaşamaz?
- A) Ziggurat adı verilen tapınaklar inşa ettikleri.  
B) Ay yılı esasına dayanarak takvim hazırladıkları.  
C) Çivi yazısını icat ettikleri.  
D) Dünyanın ilk kütüphanesini kurmuşlardır.
3. • **Cağ kebabı**  
• **Bar Halay oyunu**  
• **Oltu taşı**  
Yukarıda verilen kültürel özellikler aşağıdaki illerimizden **hangisine aittir?**
- A) Şanlıurfa      B) Erzurum  
C) İstanbul      D) Konya
4. I. Zeybek  
II. Cağ Kebabı  
III. Kilim  
**Yukarıda verilen kültürel öğeler sırasıyla aşağıdakilerden hangisine örnektir?**

	I	II	III
A)	El sanatı	Giyim	El sanatı
B)	Halk Oyunu	Yemek	Giyim
C)	Giyim	Halk Oyunu	Halk oyunu
D)	Halk Oyunu	Yemek	El sanatı

5. Aşağıdaki medeniyetlerden hangisi Anadolu da kurulan uygarlıklardan **değildir?**
- A) Asurlular      B) Urartular  
C) İyonlar      D) Lidyalılar
6. Geçmişte insanlar sadece haftanın belirli günlerinde kurulan mahalle pazarlarından alışveriş yaparlardı. Günümüzde insanların önemli bir kısmı, alışveriş yapmak için her zaman açık olan çarşılarla ve alışveriş merkezlerine de gitmektedir.
- Bu durum aşağıdakilerden hangisine örnek oluşturur?**

- A) Kültürel Sürekliliğe      B) Kültürel Değişime  
C) Kültürel Birliğe      D) Kültürel Aktarıma

7. **I-**Kemençe eşliğinde el ele tutuşarak oynanan hareketli bir halk oyunudur. Karadeniz Bölgesinde yoğun olarak oynamaktadır.(.....)

**II-**Doğu Anadolu ve Güneydoğu Anadolu Bölgesinde oynanan bir halk oyunudur. Çember oluşturmak suretiyle oynanır. Gurubun en başında bulunan lider mendil sallar. (.....)

**III-**Doğu Anadolu Bölgesinde, Elazığ yöresine ait bir oyundur. Her iki elde bulunan tabaklar içerisinde mumlar vardır. Tabaklar ve mumlar yere düşürülmeden oynanan zarif bir halk oyunudur. (.....)

**IV-**Batı Anadolu (Ege bölgesi) yöresine ait bir halk oyunudur. Tek kişiyle veya birkaç oyuncu tarafından çember kurularak, kolların açılması ve dizlerin yere vurulması şekliyle oynanan bir oyundur. (.....)

**Yukarıda ülkemizde oynanan halk oyunlarını açıklayan bilgiler verilmiştir. Buna göre yukarıda bırakılan boşluklara gelecek halk oyunları hangisinde doğru olarak verilmiştir?**

- A) I-Horon, II-Çayda Çıra, III-Zeybek, IV-Halay  
B) I-Çayda Çıra, II-Horon, III-Halay, IV-Zeybek  
C) I-Horon, II-Halay, III-Çayda Çıra, IV-Zeybek  
D) I-Zeybek, II-Halay, III-Çayda Çıra, IV-Horon

8. Dedem evden çıktıklarında mutlaka kumaştan yapılan mendilleri yanında bulundurduklarını şimdi ise kağıt mendillerin çıktığı ve herkesin artık kağıt mendil kullandıklarını söyledi.

**Yukarıdaki metne göre aşağıdakilerden hangisi söylenebilir.**

- A) Türk milleti israftan hoşlanmaz  
B) Kültürel öğelerin zamanla değiştiğinin  
C) Kumaş mendillerin temizliğinin zor olduğu  
D) Kültürümüze sahip çıkmadığımızın

9. **I-** Kültürel değerlerimizi yaşatmak ve onlara sahip çıkmak bizim için önemlidir.

**II-** Kültür, geçmişten günümüze aktarılırken zaman içinde değişime uğrayabilir.

**III-**Kültürel unsurlar; milletin kaynaşmasını ve dayanışmasını sağlar.

**IV-**Kültür geçmişten günümüze aktarılırken zaman içinde değişime uğrayabilir.

**Yukarıdaki numaralandırılmış cümlelerin hangisinde kültürün birlik ve beraberliği sağlamadaki rolünden bahsedilmiştir.**

- A) I B) II  
C) III D) IV

10. Topluları bir arada tutan milli ve manevi değerleri bulunmaktadır. Bir toplumun nesilden nesile aktarılan alışkanlıklarına, davranışlarına ve yaşam tarzlarına gelenek ve görenek denir.

**Yukarıda verilen bilgilere aşağıdakilerden hangisi gelenek ve göreneklerimizden biri değildir?**

- A) Hasta ziyareti yapmak.  
B) Yeni doğan bebeği görmeye gitmek  
C) Bayramlarda tatile çıkmak.  
D) Asker uğurlamak.

## Din Kültürü ve Ahlak Bilgisi

1. **Aşağıdakilerden hangisi orucun faydalarından biridir?**

- A) Kişinin iradesini güçlendirir.  
B) Allah'a olan bağlılığını artırır.  
C) Güçlüklerle karşı sabırlı ve azimli olur.  
D) Yardımlaşma ve dayanışma duygularını geliştirir.

2. Orucun başlama zamanına ".....", bitiş zamanına ise "....." denir.

**Yukarıda Boş bırakılan noktalı yere aşağıdaki kavramlardan hangileri getirilmelidir?**

- A) İmsak-İftar B) İftar-İmsak  
C) Sahur-İftar D) Fidyе-İftar

3. **Aşağıdakilerden hangisi oruç tutarken dikkat edilmesi gereken hususlardan biri değildir?**

- A) Kişi oruç tutarken yalan ve dedikodu gibi şeylerden uzak durmalıdır.  
B) Oruç tutan kişi güzel ahlak sahibi olmalıdır.  
C) Oruçlu olan kişi tüm kötü sözler söylemekten uzak durmalıdır  
D) Oruçlu kişi güzel koku sürünmelidir.

4. **Aşağıdakilerden hangisi oruç ile ilgili bir kavram değildir?**

- A) İmsak B) İftar  
C) İhlas D) Sahur

5. Yapılması Allah (c.c) tarafından emredilen ancak farz kadar kesin olmayan fiil ve davranışlara "....." denir.

**Yukarıdaki cümlede boş bırakılan noktalı yere aşağıdaki kavramlardan hangisi gelmelidir?**

- A) Farz B) Vacip  
C) Sünnet D) Müstehap



## 5. SINIF MATEMATİK DERSİ

6. You can buy books at the \_\_\_\_\_ .

- A) library                      B) greengrocer  
C) grocer                        D) bookshop

7. Put the sentences in the correct order.

- I. I love hopscotch. Can you play it?  
II. Let's play a game.  
III. Yes, I can. Let's play hopscotch then.  
IV. Ok, what can we play?

- A) I-II-III-IV  
B) II-IV-I-III  
C) II-IV-III-I  
D) I-III-IV-II

8. Jane: Let's play a game.

Jessica: Yeah!

Jane: Great. What can we play?

Jessica: I can play keepy uppy . Can you play keepy uppy?

Jane: Yes, I can but I don't like it. Do you like skipping rope?

Jessica: Yes. It is my favorite game. Let's skip rope.

Which of the following DOES NOT have an answer in the dialogue above? (Aşağıdakilerden hangisinin diyalogda cevabı yoktur?)

- A) Does Jane like keepy uppy?  
B) Can Jessica play keepy uppy?  
C) Can Jessica skip rope?  
D) What is Jane's favorite game?

9. Mark lives in Paris and his hobby is collecting coins. He also likes playing football with his friends, but he doesn't like playing tennis. At the weekends, he goes skating.

Which one is FALSE according to the text above?

- A) Mark goes skating.  
B) Mark likes collecting coins.  
C) Mark doesn't like football.  
D) He doesn't like playing tennis.

	CAN	CAN'T
Lisa	Skip rope	Chess
Mandy	Hopscotch	Origami

Which one is TRUE?

- A) Lisa can play hopscotch.  
B) Mandy can't do origami.  
C) Lisa can't skip rope.  
D) Mandy can play chess.

1. Sınıfında dört işlem içeren problemlerin çözümünü anlatan Ahmet öğretmen öğrencilerinden bir hafta içerisinde en az 110 tane problem çözmelerini istemiştir

Ali Osman'ın çözdüğü problem sayısı:  $11^2$

Nisa'nın çözdüğü problem sayısı:  $5^3$

Erkan'ın çözdüğü problem sayısı:  $9^2$

Mehmet'in çözdüğü problem sayısı:  $6^3$

olduğuna göre Ahmet öğretmenin verdiği görevi yerine getirebilen öğrencilerin tümü aşağıdaki seçeneklerin hangisinde verilmiştir?

- A)Yalnızca Ali Osman  
B)Ali Osman ve Erkan  
C)Ali Osman, Nisa ve Mehmet  
D)Ali Osman, Nisa ve Erkan

2. Aşağıda fiyatları verilen tişörtlerden hangisi en pahalıdır?

A)



$$4^2 \times (18 - 15)$$

B)



$$75 - (46 - 15)$$

C)



$$5 \times (2^2 + 3^2)$$

D)



$$15 + (5^2 - 12)$$



3. Miraç'ın kumbarasından çıkardığı 27 liranın tamamı eşit miktarda 5 kuruş, 10 kuruş, 25 kuruş ve 50 kuruşluk madeni paralardan oluşmaktadır.

**Buna göre Miraç'ın kumbarasından çıkardığı madeni para sayısı kaç tanedir?**

- A)30 B) 60  
C)90 D) 120

**1.Durum**

4.



Bir otoparka 1. durumda genişliği 200 cm olan araçlar ilk araç duvar ile bitişik son araç ise duvarla arasında 120 cm olacak şekilde aralarında 120 cm boşluk bırakılarak park edildiğinde 15 araç sığmaktadır.

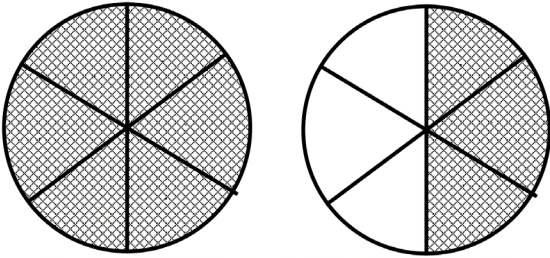
**2.Durum**



O halde 2. durumda olduğu gibi genişliği 200 cm olan araçlar ilk araç duvar ile bitişik son araç ise duvarla arasında 200 cm olacak şekilde aralarında 200 cm boşluk bırakılarak park edildiğinde bu otoparka kaç araç sığar?

- A)12 B) 13  
C)14 D) 15

5.



Yukarıdaki modellenen şekilde boyalı bölüm kaç tane birim kesirden oluşur?

- A)3 B) 6  
C)9 D) 12

6. Çeyrekten büyük en küçük birim kesir kaçtır?

- A)  $\frac{1}{2}$  B)  $\frac{1}{3}$   
C)  $\frac{1}{5}$  D)  $\frac{1}{6}$

7. Kaç tane  $\frac{1}{8}$ 'lik birim kesir bir tane  $5\frac{3}{8}$  tam sayılı kesir eder?

- A)51 B) 43  
C)23 D) 16





8. 48 m uzunluğundaki bir ağaç 5 eşit parçaya bölündüğünde her bir parçanın uzunluğunu veren kesir aşağıdakilerden hangisidir?

- A)  $4\frac{5}{8}$  B)  $3\frac{9}{5}$   
C)  $5\frac{3}{9}$  D)  $9\frac{3}{5}$

9. Günde  $\frac{19}{3}$  litre süt veren bir keçi ile ilgili aşağıda söylenenlerden hangisi doğrudur?

- A)Günde 3 litre süt vermektedir.  
C)Bir günde 7 litreden fazla süt vermektedir.  
B)Bir Günde 6 litreden az süt vermektedir.  
D)3 günde 19 litre süt vermektedir.

10. Yaya geçitlerinde araçlar için hız sınırı 30 km olduğuna göre aşağıda bir yaya geçidinden geçerken hızları verilen araçlardan hangisi bu kurala uygun bir şekilde geçmemiştir?

- A)   $\longrightarrow$   $\frac{364}{13}$   
B)   $\longrightarrow$   $\frac{348}{12}$   
C)   $\longrightarrow$   $\frac{192}{6}$   
D)   $\longrightarrow$   $\frac{475}{19}$

## 5. SINIF FEN BİLİMLERİ DERSİ

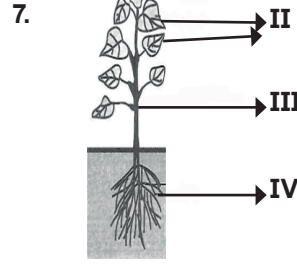
1. Kuvvet ölçen :  $\triangle$  .....  
kuvvetin birimi :  $\circ$ .....  
Yer çekimi üzerine çalışmalar yapan bilim insanı:  $\square$ ...



- A) Eşit Kollu Terazî      Kilogram      Galilei  
B) Dinamometre      Ağırlık      Nikola Tesla  
C) Dinamometre      Newton      Isaac Newton  
D) Cetvel      Metre      Isaac Newton
2. **Yasin:** Cisimlerin şeklini değiştirebilir. Örnek, kalemin kırılması.  
**İsmail:** Cisimlerin hareketini başlatabilir. Örnek, kalecinin topu tutması.  
**Deren:** Hareketli cisimlerin yavaşlamasını sağlayabilir. Örnek, arabanın frenine basarak yavaşlatmak.  
**Kuvvetin etkilerine ve bu etkilere birer olayı örnek vermek isteyen öğrencilerden hangileri hatalı bir cümle kurmuştur?**

- A) Yalnız Yasin      B) Yalnız İsmail  
C) İsmail ve Deren      D) Yasin ve Deren
3. Canlılar sınıflandırılırken benzer özellikleri dikkate alınmıştır. Bu özellikler arasında ..... sayılabilir.  
I. Beslenme şekli  
II. Üreme şekli  
III. Vücutlarındaki iskelet yapısı  
**Özelliklerinden hangileri kullanılabilir?**
- A) Yalnız I      B) I ve II  
C) II ve III      D) I, II ve III
4. Günümüzde kabul görmüş Carlous Linnaeus'un canlı sınıflandırmasına göre, canlılar; ..... , ..... , ..... , ..... olmak üzere 4 ana grupta toplanır.  
**Buna göre aşağıdakilerden hangisi bu 4 ana grubun isimlerinden biri değildir?**

- A) Mantarlar      B) İnsanlar  
C) Bitkiler      D) Mikroskopik canlılar
5. I. Penguen - Yarasa  
II. Kertenkele - Yılan  
III. Yunus - Hamsi  
**Yukarıdaki canlı ikililerinden hangileri omurgalı hayvanların aynı alt grubunda bulunmaz?**
- A) Yalnız I      B) I ve II  
C) I ve III      D) I, II ve III
6. 10 eşit bölmeli dinamometrenin her bölmesi 2 N'a karşılık geldiğine göre dinamometre aşağıdaki cisimlerden hangisini ölçemez?
- A) 21 N      B) 18 N  
C) 9 N      D) 5 N



- $\triangle$  Topraktan su ve mineral alınmasını sağlar.  
 $\circ$  Bitkinin dik durmasını sağlar.  
 $\square$  Bitkinin üremesini sağlayan bölümdür.  
 $\diamond$  Besin üretimi, gaz alışverişi ve terleme yapan bölümdür.

**Yukarıdaki bitkinin bölümleri ve açıklamaların doğru eşleştirilmiş hali aşağıdakilerden hangisidir?**

A)	B)	C)	D)
I $\rightarrow$ $\square$	I $\rightarrow$ $\square$	I $\rightarrow$ $\triangle$	I $\rightarrow$ $\square$
II $\rightarrow$ $\circ$	II $\rightarrow$ $\diamond$	II $\rightarrow$ $\diamond$	II $\rightarrow$ $\circ$
III $\rightarrow$ $\triangle$	III $\rightarrow$ $\circ$	III $\rightarrow$ $\circ$	III $\rightarrow$ $\diamond$
IV $\rightarrow$ $\diamond$	IV $\rightarrow$ $\triangle$	IV $\rightarrow$ $\square$	IV $\rightarrow$ $\triangle$

8. • Dalından kopan yaprağın yere düşmesi.  
• Kağıdı buruşturarak top yapma.  
• Rüzgârlı bir havada perdenin hareket etmesi.  
• Kalecinin topa vurarak oyunu başlatması.  
**Yukarıdaki olaylardan kaç tanesi kuvvetin etkisiyle gerçekleşir?**
- A) 1      B) 2  
C) 3      D) 4
9. • Vucutları tüylerle kaplıdır.  
• Yumurta ile çoğalırlar.  
• Yavru bakımı vardır.  
**Yukarıdaki özellikleri taşıyan omurgalı hayvan grubu ve bu grupta yer alan bir canlı aşağıdaki seçeneklerden hangisinde doğru verilmiştir?**
- A) Kuşlar - Yarasa      B) Sürüngenler - Yılan  
C) Memeliler - Geyik      D) Kuşlar - Şahin
10. I. Yeryüzündeki yaşamın temelini oluştururlar.  
II. İnsanların ve hayvanların besin kaynağıdır.  
III. Solunum yaparlar.  
**Bitkilerle ilgili yukarıda verilen bilgilerin hangileri doğrudur?**
- A) I, II ve III      B) I ve II  
C) II ve III      D) I ve III



## TÜRKÇE DERSİ

1. İnsan ilişkilerinin temelinde "hoşgörü" vardır. Günümüzde her zamankinden daha fazla hoşgörüyü ihtiyaç vardır. Çünkü internet, televizyon, medya insanları yalnızlaştırıp hoşgörüsüzlüğe sevk etmektedir. Çevremizdeki birçok olumsuzluğun ve kötülüğün sebebi hoşgörüden uzak olmamızdır. Okulda, sokakta, evde, trafikte hoşgörü yoksa orada anlaşmazlık, tartışma, kavga, bencillik vardır. Bu da bir toplumun gelişmesini engelleyen en büyük etkenlerden biridir. **Bu yazının vermek istediği mesaj aşağıdakilerden hangisidir?**

- A) Günümüzde hoşgörü ihtiyacı eskisinden daha azdır.  
B) Hoşgörü olumsuzluk ve kötülükleri ortadan kaldırır.  
C) Toplumda hoşgörüsüz insan çoğalmaktadır.  
D) Okullarda hoşgörü eğitimi verilmelidir.

2. Röportajla öykü arasında kimi benzerlikler vardır. İkisi de yaşamın gerçekleriyle beslenir. Röportajın gerçekliği belgelere, kanıtlara, somut olay ya da olgulara dayanmasından ileri gelir. Öyküde ise bunlar hayal gücüyle yeni bir renk, yeni bir görünüm kazanır. Öte yandan bütün anlatı türleri için geçerli olan dilin güzel ve etkili kullanımı, röportaj ve öykü için de söz konusudur.

**Bu metne göre aşağıdaki sorulardan hangisinin cevabı yoktur?**

- A) Röportaj öyküye göre niçin daha çok tutuluyor?  
B) Röportaj ve öykünün benzer yanı nedir?  
C) Bu metinde hangi edebi türler karşılaştırılmıştır?  
D) Bütün edebi türler için geçerli olan özellik nedir?

3. Aşağıdaki cümlelerin hangisinde virgül (,) eş görevli sözcükleri birbirinden ayırmıştır?

- A) Herkes fırtınadan, kardan, soğuktan korunuyordu.  
B) Yukarı çıktı, balkondan bize seslendi.  
C) Çocuklar, müzeye girerken sırayı bozmayalım.  
D) Olur, bu yıl tarlaya çavdar ekelim.

4. Bir bilim, sanat, meslek dalıyla ya da bir konuyla ilgili özel ve belirli bir kavramı olan sözcüklere "terim anlam" denir.

**Bu tanıma göre aşağıdaki cümlelerin hangisinde terim anlamlı bir sözcük yoktur?**

- A) Açı konusu çok önemli bir konudur.  
B) Oyun üç perdeden oluşuyordu.  
C) Düünden beri evin çatısını onarıyordu.  
D) Verilen cümlede geçen sıfatları bulunuz.

5. "Bilmek" sözcüğü aşağıdaki cümlelerin hangisinde karşısında verilen anlamla örtüşmemektedir?

	Cümle	Anlam
A)	Yani kısacası bu mükemmel dilimizi kimse bilmez, okumaz.	Bir bilim ve sanat dalında yeterli olmak
B)	Mal almasını bildi de parasını vermeyi mi bilmiyor?	İşine gelmek, uygun bulmak
C)	Milletime teşekkürü bir borç bilirim.	Saymak
D)	Ben başkalarını bilmem, sadece seni bilirim.	İnanmak

6. 1-Biz elimizden geleni yaptık lakin işler yine de yolunda gitmedi.  
2-Bütün hazırlıkları yapmıştık ama elektriklerin kesilmesi iyi olmadı.  
3-Kardeşim sanırım bu işi başkalarına bırakmaz, kendisi yapar.  
4-Önümüzde zorlu bir yol var buna rağmen bunun üstesinden geleceğiz.

**Cümlelerin hangisinde cümlenin anlam yönünü değiştiren bir ifadeye yer verilmemiştir?**

- A) 1      B) 2      C) 3      D) 4

7. Aşağıdaki cümlelerin hangisinde yön adlarının yazımıyla ilgili bir yazım yanlışı vardır?

- A) Kuzey Afrika'da büyük çöller bulunmakta.  
B) Bu soğuk hava dalgası kuzeyden geliyormuş.  
C) Anadolu'nun batısında güzel kıyılar var.  
D) Bu yıl tatilde güney Amerika'ya gideceğiz.

8. Çok güzel bir geceydi. Koyu yeşil dalgalar altımızda kayalara çarpıyor, gökyüzü zaferle susuyordu. Çevremizde otlar ve ağaçlar usul usul hisirdiyordu. Ay doğuyor, çınar yapraklarının desen desen gölgeleri toprağa dökülüyordu. Bir kuş cıvı cıvı ötüyor, sonra bir böceğin keskin, sınırlı cıvıltısı işitiliyordu. Ateş sevinçle çıtırdıyor; kırmızı ve sarı çiçeklerden yapılmış bir demeti andıran yalınların gölgeleri, gecenin durgun gölgeleriyle yarışarcasına çevremizde sıçrayıp duruyordu. Kendimden geçmişçesine bu enginliğe dalıp gitmişim.

**Bu parçanın anlatımı için aşağıdakilerden hangisi söylenemez?**

- A) Birinci kişili anlatımın kullandığı  
B) Dokunma, tatma duyularıyla ilgili ayrıntılar kullanıldığı  
C) Betimleyici anlatımın ağır bastığı  
D) Anlatıma duyguların katıldığı

## 6. SINIF KAZANIM DEĞERLENDİRME SINAVI

<b>İSMİN HALLERİ ADIN DURUMLARI</b>	Yalın Hali	Hal eki almamış
	-i Hali	-i, -i Belirtme durumu
	-e Hali	-e, -a Yönelme durumu
	-de Hali	-de, -da, -te, -ta Bulunma durumu
	-den Hali	-den, -dan, ten, -tan Ayrılma durumu

**Aşağıdaki cümlelerin hangisinde hal eki almış bir sözcük yoktur?**

- A) İnternet adresimizden detaylı bilgi alabilirsiniz.  
 B) Kullanılmış kağıtları geri dönüşüm kutusuna attı.  
 C) Köyde kış hazırlıkları erken başladı.  
 D) Kardeşi bu yıl okul birincisi oldu.

10. (1) Çalışmayı seven ihtiyar bir değirmenciydi.  
 (2) İşleri çoğaldığı için değirmeninde daha fazla vakit geçirmeye başlamıştı.  
 (3) Buna rağmen torununa zaman ayırmayı ihmal etmiyordu.  
 (4) Onun çiftliğine de ara sıra gidiyordu.  
**Bu metindeki numaralandırılmış cümlelerin hangisinde neden-sonuç ilişkisi vardır?**
- A) 1      B) 2      C) 3      D) 4

### SOSYAL BİLGİLER

1. Orta Asya Türk Devletlerinde siyasi, askeri ve ekonomik kararların alındığı meclise ' TOY ' ya da ' KURULTAY ' adı verilir. Kurultayda görüşülen konularda son karar hükümdara aitti.  
**Buna göre kurultay ile ilgili aşağıdakilerden hangisi söylenbilir?**
- A) Halkın tüm sorunlarının çözüldüğü  
 B) Tam demokratik yönetim anlayışının hakim olduğu  
 C) Danışma meclisi niteliğinde olduğu  
 D) Halkın her kesiminin yönetime katıldığı
2. Balbal; Eski Türklerde kişinin anılması için mezarının veya kurganların etrafına dikilen mezar taşlarıdır. Bununla beraber Türklerin İslam'ı kabul etmeleriyle günlük hayatlarında ve sanat hayatlarında birçok değişiklik yaşandı.  
**Türklerin İslamiyet'i kabulüyle birlikte hangi sanat dalında gerileme yaşanmıştır?**
- A) Ebru                      B) Heykelticilik  
 C) Mimari                    D) Dokuma

3.  Gazneli Mahmut'un 'Sarayımın en kıymetli hazinesi' dediği Fizik, Astronomi, Tıp, Tarih, Coğrafya alanlarında çalışma yapan Gazneliler dönemi **Türk-İslam düşünürü aşağıdakilerden hangisidir ?**

- A) Biruni                      B) Harezmi  
 C) İbn-i Sina                D) Ali Kuşçu

4. — Orta Asya Türk devletleri göçebe bir hayat yaşayıp temel geçim kaynakları hayvancılık olmuştur.  
 — Uygurlar ise diğer Orta Asya Türk devletlerinden farklı olarak yerleşik bir hayata geçmiş ve temel geçim kaynakları tarım olmuştur.

**Bu farklılığın temel sebebi aşağıdakilerden hangisidir?**

- A) Coğrafi yapı              B) Siyasi yapı  
 C) Sosyal yapı              D) Dini yapı

5. Ticaret Yolları üzerinde yaşayan toplumlar farklı milletlerle etkileşim yaşamışlardır.  
 Buna göre ticari faaliyetlerin;

**I-** Din

**II-** Bilim

**III-** Sanat

**Toplumları hangi alanda etkilediği söylenbilir?**

- A) Yalnız I      B) Yalnız II      C) I ve III      D) I, II ve III

6. Anadolu'da kurulan ilk Türk beylikleri buldukları bölgenin imarı için yollar, köprüler, medreseler, camiler çeşmeler yapmışlar.

**Danışmentliler :** Yağlıbasan Medresesi

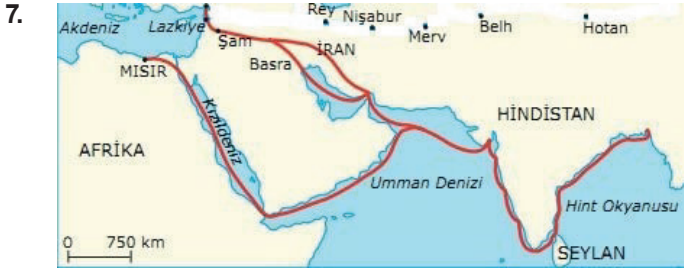
**Artuklular :** Malabadi Köprüsü

**Saltuklular:** Mama Hatun Külliyesi, Emir Saltuk Türbesi

**Mengücekler :** Divriği Ulu Camii

**Buna göre ilk Türk beylikleri Anadolu'da aşağıdaki alanların hangisinin gelişmesine katkı sağlamışlardır?**

- A) Askeri                      B) Siyasi  
 C) Bayındırlık              D) Sağlık



Yukarıda Hindistan başlayarak Akdeniz kıyılarına uzanan ve daha çok karabiber, tarçın, karanfil ve zencefil gibi maddelerin **Avrupa'ya taşındığı tarihi ticaret yolu aşağıdakilerden hangisidir?**

- A) Baharat Yolu                      B) İpekyolu  
C) Kral Yolu                              D) Karayolu

8. Hz. Muhammed döneminde İslam devletinde sosyal, ekonomik, siyasi anlamda birçok alanda gelişmeler meydana gelmiştir.

**Aşağıdakilerden hangisi Hz. Muhammed dönemine ait olaylardan biri değildir?**

- A) Talas Savaşı                      B) Hicret Olayı  
C) Mekke'nin Fethi.                      D) Bedir savaşı.

9. Selçuklularla Gazneliler arasında 1040 yılında yapılan bu savaş Selçukluların zaferiyle sonuçlandı. Bu zaferin sonucunda Büyük Selçuklu Devleti kuruldu. Türk ve dünya tarihi açısından önemli sonuçlar doğuran bu savaştan sonra Büyük Selçuklular doğu ve batı yönünde fetihlere başladı.

**Yukarıda bahsi edilen ve Selçukluların resmen kuruluşunu ilan ettiği tarihi savaş hangisidir?**

- A) Malazgirt Meydan Savaşı  
B) Dandanakan Savaşı  
C) Pasinler Savaşı  
D) Katvan Savaşı

10. Beylerim!

"Anadolu'da nereyi fethederseniz orası sizindir. Fethettiğiniz yerlerde beyliğinizi kurunuz."

**Sultan Alparslan**

Büyük Selçuklu sultanı Alparslan'ın yukarıdaki tarihi emriyle birçok Selçuklu komutanı Anadolu'ya gelerek fetihler gerçekleştirmiş ve fethettikleri yerlerde kendi beyliklerini kurmuşlardır.

**Aşağıdaki beyliklerden hangisi yukarıda bahsi edilen ve Anadolu'da kurulan ilk beyliklerden biri değildir ?**

- A) Saltuklular                      B) Danişmentliler  
C) Gazneliler                      D) Artuklular

## DİN KÜLTÜRÜ VE AHLAK BİLGİSİ

1. İstanbul'a annesiyle ilk kez gelen Ayşe, Sultanahmet Camiine gitmiş; annesi namaz vakti olmamasına rağmen 2 rekatlık mescit ziyaretlerinde kılınan namazı kılmıştır.

**Ayşe'nin annesinin kıldığı namaz aşağıdakilerden hangisidir?**

- A) Küsuf Namazı                      C) Öğle Namazı  
B) Hüsun Namazı                      D) Tahiyatü'l mescit namazı

2. **Aşağıda verilen namazlar hüküm açısından gruplandırıldığında hangisi dışarıda kalır?**

- A) Sabah namazı                      C) Bayram namazı  
B) Cuma namazı                      D) Yatsı namazı

3. Hz. Peygamber (s.a.v.) bir gün ashabına sordu: "Ne dersiniz? Birinin kapısının önünde bir nehir olsa ve o kimse bu nehirde her gün beş kez yıkansa onda kirden eser kalır mı?" Ashab-ı kiram, "Hayır, kalmaz ya Resulallah!" dedi. Bu cevap üzerine Allah Resulü (s.a.v.) şöyle buyurdu: "İşte beş vakit namaz da böyledir. Allah, beş vakit namazla günahları silip yok eder."  
**(Buhâri, Mevâkît, 6.)**

**Yukarıda verilen Hadis göre aşağıdaki sonuçlardan hangisi çıkarılabilir?**

- A) Namaz, Allah'ın bize verdiği nimetlerin kıymetini anlamamızı sağlar.  
B) Namaz, insanın şefkat ve merhamet duygularını geliştirir.  
C) Namaz kişinin günahlarını temizler.  
D) Namaz kişinin empati yeteneğini geliştirir.

4. "Kıyamet gününde kulun hesaba çekileceği ilk ameli onun namazıdır. Eğer namazı düzgün olursa, işi iyi gider ve kazançlı çıkar. Namazı düzgün olmazsa, kaybeder ve zararlı çıkar. Şayet farzlarından bir şey noksan çıkarsa, Azîz ve Celîl olan Rabb'i: 'Kulumun nâfile namazları var mı, bakınız?' der. Farzların eksiği nâfilelerle tamamlanır. Sonra diğer amellerinden de bu şekilde hesaba çekilir."  
**(Tirmizî, Mevâkît, 188)**

**Yukarıda verilen hadise göre aşağıdaki bilgilerden hangisi çıkarılamaz?**

- A) Kıyamet günü hesaba çekilecek ilk ibadet namazdır.  
B) Farz namazlarda eksiklik olursa nâfile namazlarla tamamlanır.  
C) Namazı hakkıyla kılan, ahirette kazançlı çıkar.  
D) Namaz kılmak, sünnet bir ibadettir.

## 6. SINIF KAZANIM DEĞERLENDİRME SINAVI

5. “Ey iman edenler! Sabrederek ve namaz kılarak Allah’tan yardım dileyin. Şüphe yok ki, Allah sabredenlerle beraberdir.” (Bakara Suresi, 153)

**Yukarıdaki ayetten aşağıdakilerden hangisi çıkarılamaz?**

- A) Namaz kılmanın dinen önemli olduğu  
B) Sabretmek Allah tarafından tavsiye edilmiştir.  
C) Mü’minler Allah’tan yardım dilemelidir.  
D) Namaz, başkalarını düşünme alışkanlığı kazandırır.

6. Aşağıdakilerden hangisi “niçin namaz kılarız” sorusunun cevabı olamaz?

- A) Dinimizin temel esaslarından biri olduğu için.  
B) Allah’a karşı kulluk görevimizi yerine getirmek için.  
C) Peygamberimiz emrettiği için.  
D) Allah’ın verdiği nimetlere teşekkür etmek için.

7. Dedesiyle öğle namazı için camiye giden Mehmet namazdan çıkarken cami avlusunda cenaze namazı kılmak için bekleyen insanları görmüş, dedesine;  
-Dede, ölen kişinin cenaze namazını kılmakla sorumlu olur muyuz?  
-Yavrum, cenaze namazı “.....” dir. Ölen kişinin namazını bu bölgede yaşayan bir grup Müslümanın kılması gerekir. Eğer hiç kimse ölen kişinin namazını kılmazsa, hepimiz bundan sorumlu oluruz.

**Yukarıdaki metinde boş bırakılan noktalı yere namazın hükmü ile ilgili aşağıdakilerden hangisinin getirilmesi uygun olur?**

- A) Farz-ı Ayn                      C) Farz-ı Kifaye  
B) Vacip                              D) Nafile

8. Peygamberimize vazifesi bildirilmeden önce Kâbe’nin etrafında çeşitli büyüklüklerde putlar olurdu. Mekkeliler yüce bir yaratıcıya inanır aynı zamanda putlara taparlardı.

**Yukarıda tanıtılan inanç aşağıdakilerden hangisidir?**

- A) Tevhit                              C) İslam  
B) Şirk                                  D) Yahudilik

9. I. Kur-an’ı Kerim tüm insanlara gönderilmiş evrensel bir kitaptır.  
II. Kur-an’ı Kerim peygamberimizin vefatından sonra yazıya geçirilmiştir.  
III. Kur-an’ı Kerim Hz Ömer zamanında kitap haline getirilmiş, Hz Osman zamanında ise çoğaltılmıştır.  
IV. Kur-an’ı Kerim 610 yılında Ramazan ayının Kadir Gecesinde indirilmeye başlandı.

**Kur-an’ı Kerim ile ilgili yukarıda verilen bilgilerden hangileri doğrudur?**

- A) I ve II                              C) I ve IV  
B) III ve IV                              D) II ve IV

10. Aşağıdakilerden hangisi namazın bireye kazandırdıklarından biri değildir?

- A) Toplum tarafından kabul edilebilmek için namaz kılinır.  
B) İnsanın güzel davranışlara yönelmesini kötülüklerden uzak kalmasını sağlar.  
C) İnsanı maddi ve manevi kirlilerden arındırır.  
D) İnsana zamanı planlama ve iyi değerlendirme alışkanlığı kazandırır.

## 6. SINIF İNGİLİZCE DERSİ

1. I am Cenk. I live in downtown. The buildings are higher than the buildings in uptown. There are many skyscrapers. The streets are always noisier because there is always a traffic jam. Also, people are busier. I dislike living in downtowns.

**According to the paragraph, Cenk.....**

- A) thinks there is less traffic jam in downtown  
B) prefers living in uptown  
C) likes noisy places  
D) loves having a busy life style

2. **Ayşe** : What are you doing honey?

**Merve**: I am skipping rope now, mom

**Ayşe** : Your brother is crying. Can you buy a bottle of milk for your brother?


**Merve**: OK. I am.....

- A) skipping rope now      B) going right now.  
C) busy at the moment      D) having a rest now.

3. .... city is more crowded? İstanbul or Adıyaman?  
**Boş bırakılan yere hangisi gelmelidir?**

- A) Where                              B) How  
C) What                                  D) Which

- 4.



**Görsele uygun gelen ifade hangisidir?**

- A) Skyscraper                      B) Bookshelf  
C) Table                                  D) Chair

## 6. SINIF KAZANIM DEĞERLENDİRME SINAVI

5. Cümlelerin doğru sıralanışı hangi seçenekte doğru verilmiştir?

1	at the moment
2	my uncle
3	driving
4	car
5	is

- A) 2-5-3-4-1                      B) 5-2-3-1-4  
C) 2-3-5-4-1                      D) 4-3-2-1-5
6. **ELİF:** I'm going downtown now. Would you like to come?  
**YAREN:** I'm sorry Elif , .....

- A) I'm very busy today  
B) Yes , I would  
C) We can have fun together  
D) That sounds like a good idea

7. 

Tall	Short	Exciting
------	-------	----------

 Which option shows the correct comparative forms of the adjectives above?  
(Hangi seçenekte yukarıdaki sıfatların karşılaştırma halleri doğru olarak gösterilmiştir?)

- A) More tall, more short, excitinger  
B) Taller, more short, more exciting  
C) More tall, shorter, excitinger  
D) Taller, shorter, more exciting

8. Hi! I'm Melih. I ..... a guitar course on Wednesdays and Fridays. I ..... basketball on Mondays and ..... a folk dance course on Tuesdays.

**Yukarıdaki cümlelerdeki boşluklara aşağıdaki sözcükler getirildiğinde hangi seçenek dışta kalır?**

- A) attend                              B) play  
C) get up                                D) have

9. 

İstanbul vs Adıyaman	İstanbul	Adıyaman
Busier shops	✓	
Cheaper		✓
More crowded	✓	
Lower buildings		✓

 Which one is TRUE according to the chart above?

- Which one is TRUE according to the chart above?
- A) İstanbul is more crowded than Adıyaman.  
B) Buildings in İstanbul are lower than Adıyaman.  
C) Adıyaman has busier shops than İstanbul.  
D) İstanbul is cheaper than Adıyaman.

10. **Rose:** Can I have some croissant?  
**Waitor:** No, sorry. It's all gone. Do you want a toast?  
**Rose:** Yummy! I love toast.  
**Waitor:** Tea?  
**Rose:** No, thanks. I don't like tea. Maybe orange juice.  
**Which of the following question DOES NOT have an answer in the dialogue above?**  
(Aşağıdakilerden hangisinin diyalogda cevabı yoktur?)

- A) Does Rose like lemonade?  
B) What does Rose want first?  
C) Does Rose like tea?  
D) What does Rose want to drink?

## 6. SINIF MATEMATİK

1. 

80	75	70	65
----	----	----	----

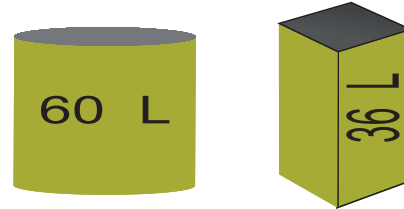
Yukarıda üzerinde sayılar bulunan dört bölmeli dikdörtgen şeklinde bir dart tahtası bulunmaktadır. Bu dart tahtasına atış yapıldığında okun isabet ettiği bölmede yer alan sayının, asal çarpan sayısının 10 katı kadar puan alınmaktadır.

Bu dart tahtasına birer kez atış yapan 4 kişiden her biri oku farklı bir bölmeğe isabet ettirmiştir.

**Buna göre en yüksek puanı alan kişi kaç puan almıştır?**

- A) 10                      B) 20                      C) 30                      D) 40

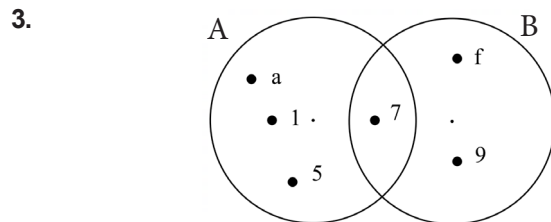
2. Ali Bey, aşağıdaki Ayçiçek yağı ile Zeytinyağını birbirine karıştırmadan eşit hacimli şişelere doldurulacaktır.



Her bir şişedeki yağ miktarı litre cinsinden tam sayı olup birbirine eşittir.

**Buna göre Ali Bey'in bu iş için kullanacağı toplam şişe sayısı aşağıdakilerden hangisi olamaz?**

- A) 48                      B) 40                      C) 32                      D) 24



Yukarıda A ve B kümelerinin Venn şeması yöntemiyle gösterimleri verilmiştir. Buna göre aşağıda verilenlerden hangisi yanlıştır?

- A)  $A = \{ a, 1, 7, 5 \}$                       B)  $A \cup B = \{ a, 1, 5, 7, f, 9 \}$   
C)  $9 \in B$                                       D)  $s(A \cap B) = 7$



## 6. SINIF KAZANIM DEĞERLENDİRME SINAVI

4.  $S = \{ 1 \text{ ile } 20 \text{ arasındaki asal sayılar} \}$   
 $T = \{ 10 \text{ ile } 30 \text{ arasındaki tek sayılar} \}$   
 Yukarıda ortak özellik yöntemiyle gösterilen iki küme verilmiştir.  
 Ahmet'in kümelerle ilgili geliştirdiği bir bilgisayar programının çalışma prensibi aşağıdaki gibidir:  
**1.adım:** Programa iki küme girilir.  
**2.adım:** İki kümenin kesişimlerinin eleman sayısını hesaplar.  
**3.adım:** İki kümenin birleşimlerinin eleman sayısını hesaplar.  
**4.adım:** 2. adımda bulunan sayı ile 3.adımda bulunan sayıyı toplar ve ekrana yansıtır.  
**Yukarıda verilen bilgilere göre Ahmet bilgisayar programına S ve T kümelerini girdiğinde ekranda görünecek sayı aşağıdakilerden hangisidir?**

- A) 16      B) 17      C) 18      D) 19

5. **I.** Hava durumu spikeri bugün havanın sıfırın altında  $6^\circ\text{C}$  olacağını söyledi.  
**II.** Hastanede çocuk poliklinikleri zeminin üstünde 2. kattadır.  
**III.** Bu ay ne kârda ne de zarardayız.  
**IV.** Deniz canlılarıyla ilgili belgesel çekmek için denizin 15 metre altına daldı.  
**Yukarıda verilen cümlelerin hangilerinde çoklukları ifade etmek için negatif sayılara ihtiyaç duyarız?**

- A) I ve III                      B) I ve IV  
 C) I, III ve IV                D) I, II, III ve IV

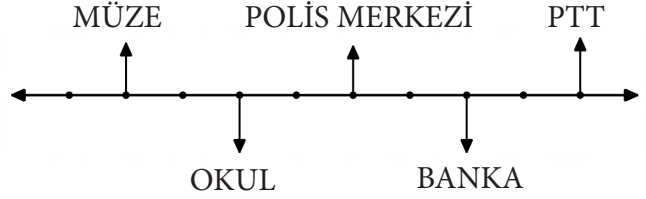
6. • Mutlak değeri 4'ten küçük olan .... tane tam sayı vardır.  
 • Mutlak değeri 4'e eşit olan .... tane tam sayı vardır.  
**Yukarıdaki ifadelerde noktalı yerlere sırasıyla aşağıdaki sayılardan hangileri getirilmelidir?**

- A) 3 ve 1      B) 9 ve 2      C) 7 ve 2      D) 4 ve 1

7. Aşağıda A ve B sayılarıyla ilgili bazı bilgiler verilmiştir.  
**A:** İki basamaklı en küçük tam sayı  
**B:** Üç basamaklı en büyük negatif tam sayı  
**Verilen bilgilere göre aşağıdaki ifadelerden hangisi doğrudur?**

- A) A sayısı B sayısından küçüktür.  
 C) B sayısının sayı doğrusunda sıfıra (0) olan uzaklığı 999'dur.  
 B) Sayı doğrusunda A sayısı B sayısının solunda yer alır.  
 D) A sayısının mutlak değeri 99'dur.

8. Aşağıda bir şehirdeki aynı caddede bulunan bazı kurumların sayı doğrusu üzerinde temsili verilmiştir. Verilen sayı doğrusu modelinde noktalar arası eşit uzunluktadır.



**Sayı doğrusu modeli üzerinde verilen kurumlara ilgili aşağıdaki bilgilerden hangisi yanlıştır?**

- A) Müzenin bulunduğu nokta -4 ise Bankanın bulunduğu yer 2'dir.  
 C) Polis merkezinin bulunduğu nokta -2 ve PTT'nin bulunduğu nokta 2 ise Banka başlangıç noktasında bulunmaktadır  
 B) Okul başlangıç noktasında bulunuyor ise PTT'nin bulunduğu nokta 6'dır.  
 D) Polis merkezinin bulunduğu nokta -5 ise müzenin bulunduğu nokta -1'dir.

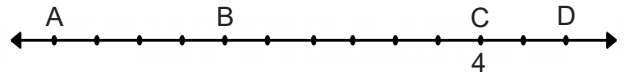
- 9.



Yukarıda üzerinde tam sayıların yazdığı dört adet top verilmiştir. **Toplar, üzerindeki tam sayılara göre küçükten büyüğe doğru sıralandığında ortadaki top aşağıdakilerden hangisi olur?**

- A)  $\textcircled{-9}$       B)  $\textcircled{-4}$       C)  $\textcircled{-3}$       D)  $\textcircled{0}$

- 10.



Yukarıdaki sayı doğrusunda verilen 13 nokta eşit aralıklarla dizilmiştir. Bu noktalar B ve D'nin mutlak değerleri birbirine eşittir. **C noktası 4'e karşılık geldiğine göre, A noktası aşağıdaki sayılardan hangisine karşılık gelir?**

- A) -16      B) -12      C) -8      D) -6

## FEN BİLİMLERİ DERSİ

1. Fen ve Teknoloji öğretmeni öğrencilere, 'Kalbin yapısı nasıldır?' sorusunu yöneltmiştir. Bazı öğrenciler bu soruya aşağıdaki gibi cevaplar vermiştir.

**Büşra:** Kalp üç odacıktan meydana gelir.

**Adnan:** Kalp dolaşım sistemindeki kanı üretmekle görevlidir.

**Aylin:** Kasılıp gevşeme hareketleriyle kanı organlara iletir.

**Ömer:** İki akciğerin ortasında bulunan yumruk büyüklüğünde organdır.

**Yukarıdaki öğrencilerden hangileri öğretmenin sorusuna yanlış cevap vermiştir?**

- A) )Yalnız Büşra                      B) Yalnız Ömer  
 C) Büşra ve Adnan                      D) Aylin ve Ömer



## 6. SINIF KAZANIM DEĞERLENDİRME SINAVI

2. Ayşe aşağıdaki bilgileri üç gruba ayıracaktır. Daha sonra bu gruplara bilgilerin özelliğine göre isim verecektir.
1. Geneli karbondioksit açısından zengin olan kirlı kanı taşıır.
  2. Geneli oksijen açısından zengin olan temiz kanı taşıır.
  3. Kan basıncının düşük olduđu damarlardır.
  4. Doku ve hücreler arasında madde alışverişini gerçekleştirir.
- Ayşe bu bilgilerden 1 ve 3 numaralı bilgileri seçmiştir. **Buna göre Ayşe bu bilgiler doğrultusunda grubuna aşağıdaki hangi ismi verirse doğru bir isimlendirme yapmış olur?**
- A) Atardamarlar                      B) Toplardamarlar  
C) Kılcal Damarlar                  D) Kan Hücreleri
3. **Aşağıdaki bilgilerden hangisi küçük kan dolaşımının amacıdır?**
- A) Kirlı kanı akciğerlere götürerek temizlenmesini sağlamak ve temiz kanı kalbe geri getirmek  
C) Kirlı kanın tüm vücuttan toplanmasını sağlamak  
B) Temiz kanı tüm vücuda dağıtmak  
D) Doku ve hücreler arasında madde geçişini sağlamak
4. Kan hücreleri ile ilgili olarak;
1. Oksijen ve karbondioksit gazlarını taşımakla görevlidirler.
  2. Kana kırmızı rengini veren kan hücreleridir.
  3. Kanda sayıca en fazla bulunan kan hücreleridir.
- Verilen bilgiler aşağıdaki kan hücrelerinden hangisine aittir?**
- A) Akyuvarlar                      B) Alyuvarlar  
C) Kan Pulcukları                  D) Kan plazması
5. **Aşağıda verilenlerden hangisi kanın vücuttaki görevleri arasında yer almaz?**
- A) Vücut ısısını ayarlar.  
C) Vücudu mikroplara karşı korur.  
B) Yaralanmalarda pıhtılaşarak kan kaybını önler.  
D) Oksijen ve karbondioksit değişimini sağlar.
6. Herhangi bir karşılık beklemeden gönüllü olarak kan verilmesine kan bağışı denilir. Fakat kan bağışı yapabilmek için belirli şartlar gereklidir. **Bu şartlar göz önünde bulundurulduğunda aşağıdaki kişilerden hangisi kan bağışında bulunabilir?**
- A) 70 yaşındaki Nuriye Teyze  
C) Sağlık sorunu olmayan 21 yaşındaki Sude  
B) Sağlıklı olan 16 yaşındaki Hayri  
D) Şeker hastası 40 yaşındaki Nuri Amca

7. Fen bilimleri öğretmeni tahtaya 'Solunum sistemi organları nelerdir?' sorusunu yazmıştır. Bir öğrenci izin alarak tahtaya organları aşağıdaki gibi sıralamıştır.

Burun	Yutak	Soluk Borusu	Gırtlak	Akciğerler
1	2	3	4	5

**Öğrenci organları sıralarken hata yaptığına göre öğrenci hangi organların yerini değiştirirse doğru olarak sıralamış olur?**

- A) 1 ve 2                                      B) 3 ve 4  
C) 4 ve 5                                      D) 1 ve 5

8. **Solunumun amacı aşağıdakilerden hangisidir?**

- A) Besinlerin kana geçmesini sağlamak  
C) Kanı zararlı atıklardan arındırmak  
B) Besinlerden enerji elde etmek için oksijen alıp karbondioksiti vermek  
D) Organların işleyişini sağlamak

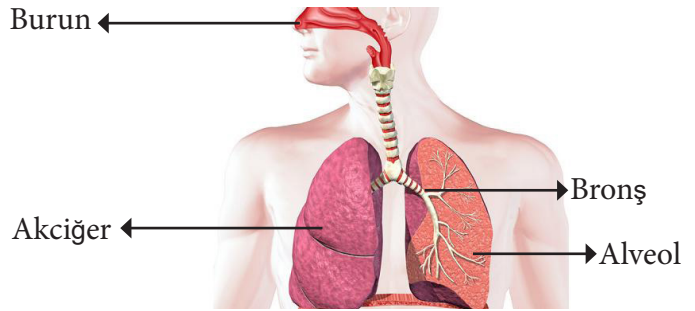
9. Soluk borusu ile ilgili olarak;

1. Üst üste dizilmiş kıkırdaktan oluşmuş bir yapıdır.
2. Toz parçacıklarını ve mikropların tutulmasını sağlayan bir salgı üretir.
3. Havanın ısıtılmasını ve nemlendirilmesini sağlayan yapıdır.

**Yukarıda verilen bilgilerden hangileri yanlıştır?**

- A) Yalnız 1                                      B) Yalnız 3  
C) 1 ve 2                                      D) 2 ve 3

10. Aşağıda solunum sisteminin oluşturan organlar verilmiştir.



Aşağıda solunum sisteminin oluşturan organlar verilmiştir.

SORULAR	CEVAPLAR
1. Havanın ısıtılarak nemlendirildiği yapı hangisidir?	Bronş
2. Hangisi oksijen ve karbondioksitin değişiminin yapıldığı yapıdır?	Alveol
3. Kasılıp gevşeme hareketleriyle soluk alıp vermeyi sağlayan yapı hangisidir?	Burun

**Öğrenci yukarıdaki sorulardan hangilerine doğru cevap vermiştir?**

- A) Yalnız 1                                      B) Yalnız 2  
C) 2 ve 3                                      D) 1, 2 ve 3

## TÜRKÇE DERSİ

1. Aşağıdaki seçeneklerden hangisinde yüklem, bildirme kiplerinden biriyle **çekimlenmemiştir**?

- A) Hayal Çocuk hikâyesini bir de ondan dinlemelisiniz.  
B) Ödev gereği Türkiye haritası çizeceğiz.  
C) Ünlü şairimiz yeni bir şiir kitabı yazmış.  
D) Öğretmenimiz eleştirilerinde bizi incitmemeye çok dikkat eder.

2.

1-	Bir şekerin yaklaşık ne kadar büyüklükte olduğunu, şekerler arasında ne kadar boşluk bulunduğunu ve kavanozun büyüklüğünü hesaplamaya başladım.
2-	Civardaki dükkân sahiplerinden birinin aklına eğlenceli bir fikir geldi.
3-	Fakat benim hesaplamış olduğum sayı da, diğer pek çok müşterinininki gibi, gerçek sayıdan çok uzaktı.
4-	Ben de matematikçi olduğumdan, sadece tahmin yürütmek değil, şekerlerin tam sayısını bulmak istedim elbette.
5-	İçi şekerle dolu cam bir kavanozu tezgâhın üstüne koydu ve bu kavanozu, içinde kaç şeker olduğunu doğru tahmin edene hediye edeceğini söyledi.

Numaralandırılmış cümlelerle anlamlı bir paragraf oluşturulmak istendiğinde sıralama nasıl olur?

- A) 1 - 3 - 2 - 5 - 4      B) 2 - 5 - 4 - 1 - 3  
C) 2 - 1 - 3 - 4 - 5      D) 5 - 4 - 2 - 1 - 3

3. Küçük Fatma, ön tarafa bakan pencerenin 9. kenarındaki kanepeye pembe elbisesiyle uzanmış, dizlerine dayadığı büyükçe bir kitabın üzerinde üst üste bir yığın kâğıda, uzun parmaklarıyla desenler çiziyordu. Bahçe için bir plan hazırlamak istiyordu. Çiçeklerin adlarını, renk topluluklarını bir kâğıdın kenarına yazıyordu. "Renkler karışmamalı!" diyordu. Bir renkten öbekler, mesela sade kırmızı, sade mor... Her mevsimde böylece birkaç renk kümesi bulunacaktı. Yalnız güller, diğer çiçeklerden farklı olacaktı. Onlar tek başına büyük meşaleler, söndürülmesi unutulmuş fenerler ve lambalar gibi yanacaktı.

**Bu metinde aşağıdaki sorulardan hangisinin cevabı yoktur?**

- A) Kahramanın özellikleri nelerdir?  
B) Fatma, ne yapmayı istemektedir?  
C) Olay, günün hangi zamanında geçmektedir?  
D) Olay, nerede gerçekleşmektedir?

4. (1) Şairin üçüncü kitabı, geçen hafta sonu piyasaya çıktı. (2) Şairin sade bir dil kullandığı bu kitap çok beğenileceğe benziyor. (3) Muhtemelen çok satanlar listesine girecek. (4) Ancak şair, daha önce yaptığı bazı hataları bu kitabında da yapmış.

**Bu parçada numaralanmış cümlelerden hangisinde karşılaştırma yapılmıştır?**

- A) 1      B) 2      C) 3      D) 4

5. Siz de sürekli gençlere öğüt vererek onlarla çatışmayı seçen büyüklerden misiniz? Boşuna uğraştığınızı fark etmediniz mi daha? Voltaire'in şu sözü size bir şeyler anlatmıyor mu: "Bırakınız gençleri dünyayı hayal ettikleri gibi görsünler. Büyüyünce nasıl olsa olduğu gibi göreceklerdir." Ne yaparsanız yapın gençler gerçeklere kendi yollarında yürüyerek ulaşacaklardır.

**Bu paragrafın ana düşüncesi nedir?**

- A) Büyükler ve gençler arasında hep bir çatışma vardır.  
B) Gerçeğe ulaşmak yaşanacak sürece bağlıdır.  
C) Gençler, büyüklerin tecrübelerinden yararlanmalıdır  
D) Zaman, gençlerde değerlerin kaybolmasına yol açar

6. **Aşağıdaki cümlelerden hangisinde neden-sonuç ilişkisi yoktur?**

- A) Sınava gelirken yanında mutlaka yedek kalem ve silgi getirirdi.  
B) Yorgunluktan ayakta duracak hâli kalmamış.  
C) Kardeşlerimi mutlu etmeyi sevdiğim için onlara küçük hediyeler alırdım.  
D) Hava durumunu dinlediğinden şemsiyesini yanında getirmiş.

7. **Aşağıdaki cümlelerin hangisinde "de"nin yazımıyla ilgili bir yanlışlık yapılmıştır?**

- A) Mutfak da güzel bir masa hazırlanmıştı.  
B) Tuhaflıklar da üst üste geliyor bugün.  
C) Ayşe de yaptıklarına pişman olmuş.  
D) Hem sen hem de o buraya gelmemeliydiniz.

8. **Kesme işareti (') hangi cümlede doğru kullanılmıştır?**

- A) Dağcılar, Himalaya'ların tepesine tırmanacaklarmış.  
B) Ebru'lar bugün de tiyatroya gideceklermiş.  
C) Telefonu alabilmek için PTT'ye dilekçe verdim.  
D) Dün Bursa'lıları hafif bir deprem uyandırdı.

9.

	Cümleler	Bıçımce	Anlamca
I	Babam her sabah yürüyüş yapıyor	Şimdiki zaman	Geniş zaman
II	Evi önümüzdeki yaz alırız	Geniş zaman	Gelecek zaman
III	Yarın Ankara'ya gidiyorum	Şimdiki zaman	Geniş zaman
IV	O her zaman güzel şiir okuyor	Şimdiki zaman	Gelecek zaman

**Yukarıdaki cümlelerin hangilerinde yanlışlık yapılmıştır?**

- A) I ve II      B) III ve IV      C) II ve III      D) I ve IV

10. Öznenin kendi iradesi dışında geçirdiği değişimi bildiren fiillerdir. Oluş fiillerinde daha çok “zaman içerisinde kendiliğinden olma” söz konusudur. Oluş fiilleri, bir durumdan başka bir duruma geçildiğini veya geçilmekte olduğunu bildirirler.

**Yukarıdaki bilgilere göre aşağıdakilerin hangisinde oluş fiili kullanılmamıştır?**

- A) Saçların yine uzamış.  
B) Kızım bugünlerde çok zayıfladı.  
C) Düşünce kolu morardı.  
D) Ayşe bütün ödevlerini yaptı.

## SOSYAL BİLGİLER DERSİ

1. 7.sınıf öğrencileri Sosyal Bilgiler dersinde Osmanlı Devletinin fetih siyaseti ile ilgili fikir üretmektedirler. Öğrencilerden biri söz alarak arkadaşlarına “Osmanlı Devlet’i yeni fethettiği bölgelerde yaşayan halkın inanç ve kültürlerini yaşamasına müdahale etmemiş; bunun aksine fethedilen yerlerdeki halkın inanç ve kültürünü korumaya çalışmıştır.” demiştir.

**Öğrenci kanıt olarak aşağıdaki örneklerden hangisini verirse bu bilgisini ispatlamış olur?**

- A) Osmanlı devleti halkı üç kıtaya yayılan topraklarda yıllar boyunca barış ve huzur içinde yaşamıştır.  
B) Osmanlı devleti kurmuş olduğu düzenli kara ve deniz kuvvetleri sayesinde savaşlar yaparak üç kıtaya yayılmıştır.  
C) Osmanlı devleti gaza ve cihat anlayışı sayesinde fetihler sınırlarını genişleterek büyük bir imparatorluk haline gelmiştir.  
D) Osmanlı devleti tımar sistemi ile herhangi bir masraf yapmadan düzenli bir orduya sahip olmuştur.

Orhan Bey	Bu dönemde ilk kez Türk beyliklerinden biri olan Karesioğulları Beyliğine son verilmiştir.
I.Murat	Germiyoğullarından çeyiz olarak Kütahya'yı almıştır.
Yıldırım Bayezid	Timur ile yaptığı Ankara savaşı sonucunda Anadolu'da Türk beylikleri tekrar kurulmuştur.
Çelebi Mehmet	Ankara savaşından sonra devletin başına geçerek devleti yıkılmaktan kurtarmıştır.

**Yukarıda verilen açıklamalara bakılarak aşağıdaki yargılardan hangisine ulaşamaz?**

- A) Orhan bey zamanında Anadolu Türk siyasi birliğini sağlama çalışmaları başlatılmıştır.  
B) I. Murat döneminde barışçıl yollarla Anadolu Türk siyasi birliği çalışmaları devam etmiştir.  
C) Yıldırım Bayezid zamanında yapılan Ankara savaşı ile Anadolu Türk siyasi birliği bozulmuştur.  
D) Çelebi Mehmet devletin başına geçerek Anadolu Türk siyasi birliğini tekrar sağlamıştır.

DİVANDAKİ GÖREVLERİ	GÜNÜMÜZDEKİ KARŞILIĞI
ŞEYHÜLİSLAM	DİYANET İŞLERİ BAŞKANI
KAPTANI DERYA	DENİZ KUVVETLERİ KOMUTANI
KAZASKER	ADALET BAKANI
DEFTERDAR	DIŞ İŞLERİ BAKANI

**Osmanlı devletinde Divan üyelerinin görevleri ve günümüzdeki karşılıkları yukarıda verilmiştir hangi eşleştirme yanlıştır?**

- A) Şeyhülislam-Diyanet işleri başkanı  
B) Defterdar-Dışişleri Bakanı  
C) Kazasker-Adalet Bakanı  
D) Kaptanı Derya-Deniz Kuvvetleri Komutanı







Yukarıda birbiriyle bağlantılı tümceleri içeren bir etkinlik verilmiştir. Bu etkinlikte verilen ifadelerin doğru ya da yanlış olduğuna karar verilerek ok yönünde ilerlendiğinde kaçınıcı çıkışa **ulaşılması gerekir**?

- A) 1. ÇIKIŞ  
B) 2. ÇIKIŞ  
C) 3. ÇIKIŞ  
D) 4. ÇIKIŞ

5. Aşağıdakilerden hangisi İstanbul’un fethinin Türk Tarihi açısından sonucu değildir?





- A) İstanbul Osmanlı Devletinin başkenti oldu  
B) İstanbul Boğazı Türklerin eline geçti  
C) Ortaçağ sona erdi Yeniçağ başladı  
D) Osmanlı’nın toprak bütünlüğü sağlandı

## 7. SINIF KAZANIM DEĞERLENDİRME SINAVI

6.    
- Coğrafi keşifler      Rönesans      Sanayi inkılabı      Reform

XVI.yüzyılda Almanya'da ortaya çıkan, sonra diğer Avrupa ülkelerine yayılan ve Hristiyanlığın Katolik kilisesinde meydana gelen düzenleme hareketleri olarak da bilinen bu olaylar sonucunda Avrupa'da yeni mezhepler ortaya çıkmıştır.

**Yukarıda açıklaması yapılan kavramın sembolü aşağıdakilerden hangisidir?**

- A)       B) 
- C)       D) 

7. Osmanlı Devleti 15 ve 16. yüzyıllarda yaptığı fetihler sonucunda, o dönemim en önemli iki ticaret yolu olan İpek ve Baharat yollarını kontrol altına almıştır. Ancak Coğrafi Keşiflerin yapılması nedeniyle bu yollardan yeterince yararlanamamıştır.

**Coğrafi Keşiflerin hangi sonucu Osmanlı Devleti'nin bu ticaret yollarından yeterince yararlanamamasına sebep olmuştur?**

- A) Doğuya giden yeni ticaret yollarının bulunması  
B) Dünyanın yuvarlak olduğunun anlaşılması  
C) Sağlam ve dayanıklı gemilerin yapılması  
D) Yeni bitki ve hayvan türlerinin keşfedilmesi



Bizler Hıristiyan kökenli bir aileden, ailemizin izni ve bizim gönül rızamızla alınarak Türk ailelerin yanlarına veriliyoruz. Orada Türkçeyi ve İslam dinini ayrıca Türk geleneklerini öğreniyoruz. Daha sonra acemi ocağında eğitim alarak bu orduya katılıyoruz ve devletin bize verdiği maaşla geçiniyoruz.

**Yukarıdaki askerin anlatımına göre bu asker aşağıdaki Osmanlı askerlerinden hangisine mensuptur?**

- A) Azaplar      B) Tımarlı sipahiler  
C) Yeniçeriler      D) Akıncılar

9. Aşağıdakilerden hangisi Osmanlı donanmasının Akdeniz'deki başarıları **arasında sayılamaz?**

- A) Kıbrıs'ın fethi      B) Kırım'ın Fethi  
C) Rodos adasının fethi      D) Preveze Deniz Savaşı

10. • Fatih Sultan Mehmet döneminde İstanbul alındı.  
• Yavuz Sultan selim döneminde Memlûklülere Mısır alındı.  
• Kanuni Sultan Süleyman zamanında Macaristan alındı.

**Yukarıdaki bilgilere bakarak aşağıdaki yorumlardan hangisi yapılamaz?**

- A) Yavuz zamanında halifelik Osmanlılara geçmiştir.  
B) Fatih zamanında Bizans imparatorluğu yıkılmıştır.  
C) Kanuni döneminde Avrupa'da fetihler yapılmıştır.  
D) Fatih zamanında baharat yolu Osmanlılara geçmiştir.

### DİN KÜLTÜRÜ VE AHLAK BİLGİSİ-7

1. "...Gücü yetenlerin o evi (Kâbe'yi) haccetmesi, Allah'ın insanlar üzerindeki bir hakkıdır..."

(Al-i İmran, 97)

Ayette altı çizili ifadeden aşağıdakilerden hangisi **çıkarılamaz?**

- A) Hacca gidecek kişi, akıl-baliğ olmalıdır.  
B) Kişinin, hac için ekonomik gücü olmalıdır.  
C) Hacca gidecek kişinin beden sağlığı olmalıdır.  
D) Hacca gidecek kişi erkek olmalıdır.

2. Hacca gelen Müslümanlar, ihrama girerek sosyal ve ekonomik statülerinden sıyrılır. Vakfe yaparak mahşeri hatırlar ve tövbe etme fırsatı bulur. Şeytan taşlayarak kötü duygu ve düşüncelerden arınır. Birlikte tavaf ederek kardeş olma bilinci kazanır. Sa'y yaparak sabırlı ve ümitli olmayı öğrenir.

**Yukarıdaki paragrafta vurgulanan ana fikir aşağıdakilerden hangisidir?**

- A) Hac ibadeti insanlar arasında eşitliği sağlar.  
B) Müslümanlar arasında dayanışmayı artırır.  
C) Hacca yapılan davranışların bir amacı vardır.  
D) İnsanların birlikte ibadet etmelerine vesile olur.

3. Sözlük anlamı; duruş, durmak ve ayakta dikilmek, Terim anlamı ise; Haccın farzlarından olup Mekke'nin Arafat denilen bölgesinde Zilhicce ayının dokuzuncu günü (arife günü) öğle vaktinden başlayarak Kurban Bayramı'nın birinci günü güneş doğuncaya kadar bir süre beklemek demektir.

**Yukarıda hac ile ilgili kavramlardan hangisi ile ilgili bilgi verilmektedir?**

- A) İhram      C) Sa'y  
B) Tavaf      D) Vakfe



## 7. SINIF KAZANIM DEĞERLENDİRME SINAVI

4. Aşağıdakilerin hangisinde Haccın farzları doğru olarak sıralanmıştır?

- A) İhram – Sa'y – Tavaf
- B) İhram – Vakfe – Tavaf
- C) İhram – Şavt – Kurban Kesme
- D) Tavaf – Sa'y – Kurban Kesme

5. Aşağıdakilerden hangisi haccın insana kazandırdığı duygu ve davranışlar arasında yer almaz?

- A) Hac ibadeti, kişinin Allah'ın (c.c.) sevgisini ve rızasını kazanmasına vesile olur.
- B) Hac, insanın manevi duygularını güçlendirir ve onu dinî açıdan daha da bilinçlendirir.
- C) Hac görevini yerine getiren kişi, toplumda kendisine "hacı" denmesinin ayrıcalığını yaşar.
- D) Kurallarına uygun biçimde, bilinçli ve samimi olarak yapılan hac, insanın günahlarının affına vesile olur.

6. Mustafa Amca, mikat sınırında "-----" girmiş, niyet etmiş ve telbiye duasını okumaya başlamıştır. Mescid-i Haram'a geldiğinde Hacerül'l Esved'in hizasından itibaren Kâbe'nin çevresinde dönmeye başlamıştır. "-----" kez döndükten sonra "-----" inı tamamlamıştır. Ardından Safa ve Merve tepeleri arasında gidip gelerek "-----" ibadetini yerine getirmiştir.

**Yukarıdaki metne göre boş bırakılan yerlere hangi kavramlar gelmelidir?**

- A) İhrama / Yedi / Tavaf / Vakfe
- B) İhrama / Yedi / Tavaf / Sa'y
- C) İhrama / Dört / Şavt / Sa'y
- D) İhrama / Beş / Tavaf / Vakfe

7. Hac, Allah'ın açık ve kesin bir emridir. Allah(c.c) kulluk vazifesini yerine getiren kullarını bağışlayacağını, onlardan razı olacağını ve cennetle mükâfatlandıracağını vadedmektedir. Peygamber efendimiz bir hadis-i şerifinde şöyle buyurmuştur: "**Mebrur**" bir haccın karşılığı ancak cennettir."

(Müslim, Hac 437)

**Yukarıdaki metinde altı çizili ifadede vurgulanmak istenen nedir?**

- A) Hac yapmak isteyen kişinin acele etmesi
- B) Peygamberimizin kabrini ziyaret etmesi
- C) Haccı kurallarına uygun biçimde bilinçli ve ihlasla yapması
- D) Farklı kültürlerden Müslümanlarla arkadaşlık kurması

8. İhramlı olan kişinin bazı davranışları yapması yasaklanmıştır.

**Aşağıdakilerden hangisi bunlardan biri değildir?**

- A) Saç ve sakalı boyamak
- B) Bitkilere zarar vermek
- C) İnsanlarla tartışmak ve onlara zarar vermek
- D) Dişleri fırçalamak, misvaklamak

9. Umre ile ilgili aşağıda verilen bilgilerden hangisi yanlıştır?

- A) Ramazan ayında yapılabilir.
- B) Sadece Kurban bayramında yapılabilir.
- C) Gücü yetenler birden fazla yapılabilir.
- D) Sünnet bir ibadettir.

10. Hacıların ibadet amacıyla kurban kesip şeytan taşladıkları yerdir. Hacca giden müminler, Kurban Bayramı'nın ilk günü kurban keserler. Bayramın bir, iki, üç ve dördüncü günlerinde şeytan taşlarlar.

**Yukarıda hakkında bilgi verilen kutsal mekân neresidir?**

- A) Müzdelife
- B) Mina
- C) Arafat
- D) Sefa ve Merve Tepeleri

## İNGİLİZCE DERSİ

1. Dear diary,

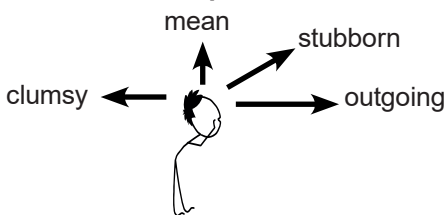
Today,I want to write about my friends. Tuğçe is my bestfriend. She has got blond hair with blue eyes. She is taller than me. I trust her because she always keep my secrets. Also,She never tell lies. Rukiye is an outgoing person. She has got a lot of friends. I don't like Selma.I think she is sneaky and selfish. She only gives importance to her decisions.

**According to the information above which one is Correct?**

- A) There is no information about Tuğçe's appearance
- B) Selma is an easygoing person. She also has blond hair.
- C) There are informations about Tuğçe's appearance and personality.
- D) Rukiye and Selma have the same personal traits.

## 7. SINIF KAZANIM DEĞERLENDİRME SINAVI

2. Read the information about Ahmet's personality and answer the question.



According to the information above which option is **wrong**?

**Ahmet**.....

- A) is social and has got many friends.  
 B) always buys presents for his friends.  
 C) hardly ever changes his ideas.  
 D) often breaks things around him.
3. I am Tom. I am an athlete. I joined Olympic Games a few years ago but I wasn't successful. This year, I will attend again. I am training really hard. I want to achieve a great success in Olympic Games. I attend the Olympic Games because it is a very big and important sports event. There are over thirty different games in it. I am very interested in these games. I hope I will win one gold and two silver medals.

According to the text;

**Tom** .....

- A) will never win medals.  
 B) rarely train so hard.  
 C) is fond of Olympic Games.  
 D) won two silver medals.

<b>QUESTIONS</b>	
<b>A</b>	What is your favourite sports activity?
<b>B</b>	Why do you do it?
<b>C</b>	How often do you train?
<b>D</b>	What do you need for this sport?
<b>ANSWERS</b>	
<b>1</b>	a racket and a ball.
<b>2</b>	I find it exciting.
<b>3</b>	I train three times a day.
<b>4</b>	It is volleyball.

Match the questions with the answers and choose the correct option.

- A) 1-D, 2-B, 3-C, 4-A  
 B) 1-A, 2-C, 3-C, 4-B  
 C) 1-C, 2-A, 3-D, 4-B  
 D) 1-B, 2-C, 3-A, 4-D

5. Aziz Sançar.....born in Mardin. He .....up there. He studied at Yale University between 1977-1982.

- A) were/ growing      B) was/grew  
 C) was/grow          D) were/grows

6. **Ahmet:** Who was Robin Williams?  
**Burak:**He was a well-known actor in the world. He was born in 1951 and grew up Chicago,USA. He played in many movies. His popular film is Patch Adams. He died in 2014.

According to the dialogue which one is correct?

- A) He died at the age of fifty-three  
 B) He was the only famous actor in the world.  
 C) He took many roles in the films  
 D) He was a popular actor only in the USA

7. Aysun ..... did you go to the dentist?  
 Özlem : The first ..... january, 2019

01 JANUARY 2019

Sunday	Monday	Tuesday	Wednesday	Thursday	Friday	Saturday
		1	2	3	4	5
6	7	8	9	10	11	12
13	14	15	16	17	18	19
20	21	22	23	24	25	26
27	28	29	30	31		

- A) what time / on      B) when / of  
 C) when / in          D) how / of

8. Marie Curie was born on November 7, 1867 in Warsaw. Both of her parents were teachers. She was brilliant at school. Marie Curie got married to Pierre Curie on July 26, 1895. She had two daughters. She died on July 4, 1934.

Which of the following questions **does not** have an answer in the text?

- A) Where was Marie Curie born?  
 B) Whom did she get married to?  
 C) How many awards did she win?  
 D) When did she die?

9. -Atatürk was ..... in 1881, in Selonika.  
 -Kemal Atatürk ..... from the Military Academy in 1905.

-He ..... to Latife Hanım on January 29, 1923.  
 Which of the following is **OUT** when the sentences completed with the words below?

- A) graduated          B) got married  
 C) died                  D) born



10. Elif had to leave the meeting earlier than her friends because she ..... .
- A) separated from her husband.  
B) felt a terrible headache.  
C) wanted to stay at the meeting.  
D) decided to get retired.

### MATEMATİK DERSİ

1. 
$$\left[ \left( \frac{7}{18} \right) \cdot \left( -1\frac{3}{9} \right) \right] \cdot \left( -\frac{8}{36} \right) = \left( \frac{7}{18} \right) \cdot \left( -\frac{8}{36} \right) \cdot \Delta$$

Yukarıdaki eşitliğe göre,  $\Delta$  yerine aşağıdakilerden hangisi gelmelidir?

- A)  $\frac{7}{18}$     B)  $\frac{12}{9}$     C)  $-\frac{4}{18}$     D)  $-1\frac{3}{9}$

2. 
$$-\frac{17}{6}, -2\frac{4}{5}, -2\frac{7}{6}, -\frac{17}{5}$$

Yukarıda Serpil öğretmenin tahtaya yazdığı dört rasyonel sayı bulunmaktadır. Serpil öğretmen öğrencisinden bu rasyonel sayıları **küçükten büyüğe** sıralamasını istemiştir. Öğrenci hatasız bir şekilde sıralamayı yaptığında baştan(soldan) 3. sırada hangi rasyonel sayı yer alır?

- A)  $-\frac{17}{6}$     B)  $-2\frac{4}{5}$     C)  $-2\frac{7}{6}$     D)  $-\frac{17}{5}$

3. 
$$24 \cdot \left( \frac{1}{3} - \frac{18}{48} - \frac{5}{8} \right) = ?$$

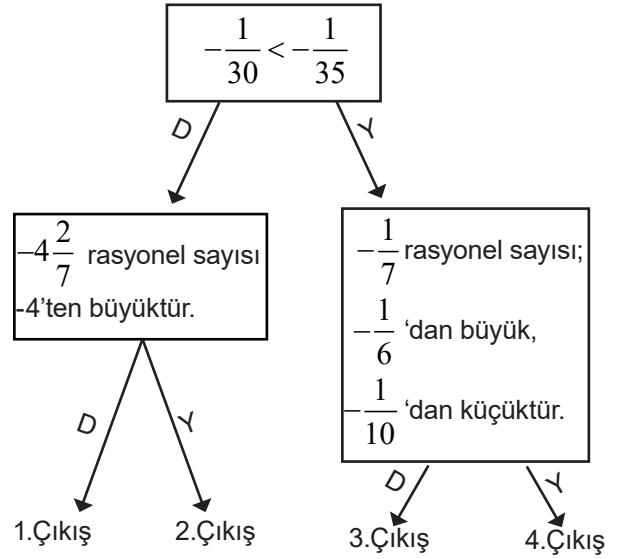
İşleminin sonucu aşağıdakilerden hangisine eşittir?

- A) -16    B) -15    C) 15    D) 16

4.  $-\frac{27}{7}$  sayısından büyük en küçük tamsayı ile  $\frac{38}{5}$  sayısından küçük en büyük tamsayının çarpımı kaçtır?

- A) -28    B) -21    C) -12    D) 0

5.



Yukarıdaki şemada **hata yapılmadan** doğru bir şekilde ilerlendiğinde hangi çıkışa ulaşılır?

- A) 1.Çıkış    B) 2.Çıkış    C) 3.Çıkış    D) 4.Çıkış

6.

Çarpma işlemine göre tersi 5 olan sayıdan , toplama işlemine göre tersi 7 olan sayıyı çıkaran Ömer, sonucu kaç bulur?

- A)  $-\frac{34}{5}$     B)  $-\frac{2}{35}$     C)  $\frac{2}{35}$     D)  $\frac{36}{5}$

7.

$$\left( \frac{36}{13} + \frac{21}{41} + \frac{11}{25} \right) - \left( -\frac{20}{41} - \frac{14}{25} + \frac{10}{13} \right) = ?$$

Yukarıdaki İşlemin sonucunun en sade hali kaçtır?

- A) 4    B) 3    C) 2    D) 1

8.

$$\left( \frac{1}{2} \right)^3 - \left( \frac{1}{3} \right)^2 = ?$$

işleminin sonucu aşağıdakilerden hangisine eşittir?

- A) 0    B)  $\frac{1}{6}$     C)  $\frac{1}{18}$     D)  $\frac{1}{72}$

9.  $1 + \frac{1 - \frac{1}{2}}{1 + \frac{1}{2}} = ?$  Yukarıdaki işleminin sonucu aşağıdakilerden hangisine eşittir?

- A)  $\frac{4}{3}$  B)  $\frac{2}{3}$  C)  $\frac{3}{4}$  D)  $\frac{3}{2}$

10.  $\left(1 - \frac{1}{3}\right) \cdot \left(2 - \frac{7}{5}\right) \cdot \left(3 - \frac{19}{8}\right) = ?$

Yukarıda verilen işlemin sonucunun **en sade hali** aşağıdakilerden hangisidir?

- A) 2 B) 1 C)  $\frac{1}{4}$  D)  $\frac{1}{3}$

## FEN BİLİMLERİ DERSİ

1. Mayoz bölünmeyle ilgili olarak aşağıda verilenlerden hangisi **yanlıştır**?

- A) Bölünme sonucunda 4 yavru hücre oluşur.  
B) Bölünmeye hazırlık evresinde DNA kendini eşleyerek kalıtım maddesi iki katına çıkar.  
C) Biyolojik çeşitliliği sağlayan parça değişimi olayı gerçekleşir.  
D) Bölünme sonucunda kromozom sayısı değişmez.

	Mitoz	Mayoz
1	Kromozom sayısı sabit kalır.	Kromozom sayısı yarıya iner.
2	Eşeyli üremeyi sağlar.	Tek hücreli canlılarda üremeyi sağlar.
3	Bölünme sonucunda 2 yavru hücre oluşur.	Bölünme sonucunda 4 yavru hücre oluşur.
4	Kalıtsal çeşitliliğe katkısı yoktur.	Kalıtsal çeşitliliği sağlar.

Yukarıda verilen tabloda mitoz ve mayoz bölünmeyle ilgili bazı bilgiler verilmiştir.

**Bu bilgilerden kaç numaralı bilgide hata yapılmıştır?**


- A) 1 B) 2  
C) 3 D) 4

3.



**Dünya**

Kütle: 36 kg  
Ağırlık: 360 N



**Ay**

Kütle: 36 kg  
Ağırlık: 60 N



**Uzay**

Kütle: 36 kg  
Ağırlık: 0 N

Yukarıda bir çocuğun Dünya, Ay ve Uzay'da ölçülmüş kütle ve ağırlık değerleri verilmiştir.

**Verilen bu değerlere bakarak kütle ve ağırlıkla ilgili aşağıdaki bilgilerden hangisine ulaşamaz?**

- A) Kütle her yerde aynıdır, değişmeyen bir büyüklüktür.  
B) Ağırlık kütleyle bağlı olmayan bir değerdir.  
C) Ağırlık farklı gezegenlerde de ölçüldüğünde farklı değerlerde ölçüm yapılır.  
D) Bir cismin uzayda hiçbir ağırlığının olmamasının nedeni uzaydaki çekim kuvvetinin sıfır olmasındandır.

4.

	Dünya'daki Kütle(kg)	Ay'daki Kütle(kg)	Dünya'daki Ağırlığı(N)	Ay'daki Ağırlığı (N)
K	24	a	b	40
L	c	48	d	80
M	12	e	120	f
N	p	60	h	100

Yukarıda K, L, M ve N cisimlerinin Dünya ve Ay'daki ağırlık ve kütlelerine ilişkin bazı değerler verilmiştir. Bazı değerlerde bazı harflerle gösterilmiştir.

**Buna göre c ve h harfi ile gösterilen değerler aşağıdakilerden hangisinde doğru olarak verilmiştir?**

- A)  $\frac{c}{h}$   
B)  $\frac{c}{h}$   
C)  $\frac{c}{h}$   
D)  $\frac{c}{h}$

## 7. SINIF KAZANIM DEĞERLENDİRME SINAVI

5. 14 kromozumlu bir hücre sırasıyla 1 mitoz ve 1 mayoz bölünme geçiriyor. Sonucunda oluşan hücre sayısı ve hücrelerin kromozom sayısı aşağıdakilerden hangisinde doğru olarak verilmiştir?

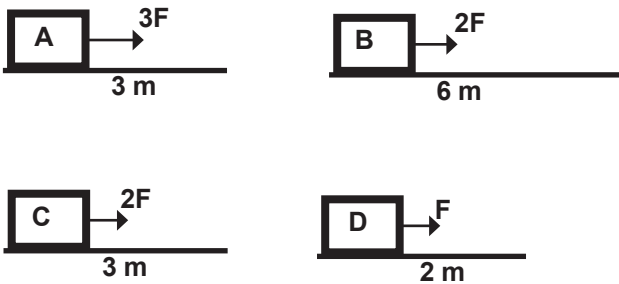
	Hücre Sayısı	Kromozom Sayısı
A)	6	14
B)	8	7
C)	4	7
D)	4	14

6. Hayriye teyze pazara gitmiş ve pazarcıdan elma, şeftali, çilek ve kavun almıştır. Pazarcı elindeki ölçüm aletiyle bir ölçüm yapmış ve Hayriye teyzeye istediği meyveleri vermiştir.

**Buna göre pazarcının meyvelerin hangi özelliğini ölçtüğü ve bu ölçümü yaparken hangi ölçüm aletini kullandığı aşağıdakilerden hangisinde doğru olarak verilmiştir?**

- A) Kütle - Dinamometre  
B) Ağırlık - Eşit Kollu Terazi  
C) Kütle - Eşit Kollu Terazi  
D) Ağırlık - Kütle

7. Özdeş kütleler A,B,C,D düzeneklerinde belirtilen mesafeler aldırılıyor.



Verilen A,B,C ve D düzeneklerinde verilen kuvvetler uygulanırken ;

**I.**Fiziksel anlamda yapılan işin uygulanan kuvvete bağlı olup olmadığını belirlemek için

**II.**Fiziksel anlamda yapılan işin yola bağlı olup olmadığını belirlemek için

**verilen durumlardan hangilerini kullanırsa araştırmaları için daha kullanışlı olur?**

	Durum-I	Durum-II
A)	A,C	B,C
B)	A,D	B,C
C)	A,C	B,D
D)	A,B	B,D

8. **Bilgi:** Kuvvet kendi doğrultusunda cisme yol aldırıyorsa fiziksel anlamda iş yapmıştır denir.



23 Nisan bayramında düzenlenen etkinlikler kapsamında ip çekme yarışmasını Bekir kazanmıştır.

**Verilen bilgilere göre aşağıdakilerden hangisi doğrudur ?**

- A) Bekir yarışmayı kazandığı için iş yapmıştır.  
B) Hamza daha fazla iş yapmıştır.  
C) Hamza yarışmayı kabettiği için iş yapmamıştır.  
D) Bekir ve Hamza in yaptığı işler eşittir.

9. **Mitoz bölünme için verilenlerden hangisi yanlıştır?**

- A) Oluşan hücrelerin kromozom sayısı ana canlıyla aynıdır.  
B) Tüm canlılarda görülür.  
C) Sonucunda 4 yeni hücre oluşur.  
D) Bir hücreli canlılarda üremeyi sağlar.

10. Mayoz bölünmenin aşamaları karışık şekilde verilmiştir;

- 1.Kromozomlar ortada tek sıra halinde dizilir.
- 2.DNA kendini eşler.
- 3.Kromozomlar arasında gen değişimi olur.
- 4.Homolog kromozomlar birbirinden ayrılır.
- 5.Kardeş kromatitler birbirinden ayrılır.

**Mayoz bölünmenin aşamaları doğru şekilde sıralandığında aşağıdakilerden hangisi gibi olur?**

- A) 2-1-3-4-5  
B) 2-3-1-5-4  
C) 2-1-3-4-5  
D) 2-3-1-4-5

## TÜRKÇE DERSİ

1. Stres kişinin üzerinde hissettiği baskı ve gerginlik durumudur. Bu anlamda, günlük yaşamın bir parçası sayılabilir. Öğrenciler olarak akademik beklentileri karşılamaya çalışırken, yeni ortama uyum sağlarken ya da yeni arkadaşlıklar kurarken stres yaşayabilirsiniz. Yaşadığınız stres her zaman zararlı değildir, hatta hafif derecedeki stres sizi harekete geçiren, enerji veren ve kendinizi geliştirmenize yol açan bir etken olabilir. Ancak stres düzeyiniz yüksek olduğunda verimliliğiniz düşebilir, yaşamdan aldığınız zevk azalabilir ve çevrenizle olan ilişkilerinizde sorunlar ortaya çıkabilir.
- Yukarıdaki metinde aşağıdaki sorulardan hangisinin cevabı yoktur?**

- A) Stres nedir?  
 B) Stres oluşumunun sebepleri var mıdır?  
 C) Stresi nasıl yenebiliriz?  
 D) Stresin olumlu ve olumsuz etkileri var mıdır?

2. Türkiye’de kentlerin nüfus artış hızının genel nüfus artışından hızlı olması, ülkenin kırsal kesimlerinden olan göçün göstergesidir. Bu göçlerin nedenlerine bakıldığında göçlerin ekonomik, sosyal ve siyasal nedenlerden kaynaklandığı görülmektedir. Bu nedenlerin oluşturduğu bölgesel dengesizlikler başlangıçta göçlerin sebebiyken bir süre sonra aynı zamanda sonucunu da olmuştur. Bu durum zamanla bir kısır döngü oluşturmuştur. Yine Türkiye’de kırsal alanların ekonomik sosyal yetersizliklerinden dolayı göçü başlatıcı bir neden olarak iticiyken kentlerin çekiciliği de ancak ilk göç edenlerin oluşturduğu bilgi akışıyla mümkün olmuştur. Türkiye’de göçlerin nedenleri arasında ekonomik ve sosyal olarak bölgesel dengesizlikler, hızlı nüfus artışı, tarım kesiminin gelir dağılımından az pay alması, siyasal nedenler önemli bir yere sahiptir.

**Bu metinden hareketle:**

**I.** Kentlerin nüfus artışı genel nüfus artış hızına bağlı olarak artar.

**II.** Kentlere göçün nedenlerinden biri de bölgesel dengesizliktir.

**III.** Kentlere yapılan tüm göçlerin altında ekonomik ve sosyal nedenler vardır.

**IV.** Kırsal kesimler ekonomik ve sosyal açıdan iticidir.

**V.** Bazı bölgelerde tarımla uğraşanlar, gelir dağılımından az pay alırlar.

**Hangi yargı veya yargılara ulaşılamaz?**

- A) Yalnız I B) I ve III C) III ve IV D) IV ve V

3. Esprileriyle ünlü İngiliz yazar Bernard Shaw’un hayranlarından bir bayan ( ) “Bu kadar bilgiyi nereden öğreniyorsunuz ve nasıl unutmuyorsunuz ( )” diye sorunca, Shaw ( ) “Ben ilk okul kitaplarımı her gün okurum ( )” diye yanıt vermiş.

- A) (.) (.) (.) (?) B) (.) (?) (.) (.)  
 C) (:) (?) (:) (.) D) (:) (.) (?) (.)

4.

## 1. METİN

İnsan daha demir devrinde iken silahının kabzasına kuş ve çiçek resimleri kazıyordu. Bu süs faydasızdı. Silahın atım ve isabet gücünü artırmıyordu. Ancak silahı atanın manevi gücüne bir şey kattığı için süsün faydalı olduğu söylenebilir. Fakat bu faydanın şartı insanın güzellikten zevk almasıdır. Yani güzellik duygusu faydadan önce gelmektedir. İnsanı hayvandan ayıran fark da budur.

## 2. METİN

Samimilik demiyorlar mı, büyük bir söz ettiklerini, her işi ta kökünden çözümleyiverdiklerini sanıyorlar. Samimi olmak kolaymış gibi. Öyle ya, aklınıza geleni, daha doğrusu ağızınıza geleni söyleyiverirsiniz, olur biter. İçinizden öyle doğmuş. Ya sizin içinizden saçma sapan şeyler doğuyorsa, karşınızdakinin onurunu kıracak sözler söylemek doğuyorsa, samimidir diye onları da mı beğenecek, onları da mı alkışlayacağız? **Aşağıdakilerden hangisi yukarıdaki metinler arasındaki ortak özelliklerden değildir?**

- A) Kişisel görüşler içermektedir.  
 B) Örneklendirmeye başvurulmuştur.  
 C) Düşünce yazısından alınmışlardır.  
 D) Tartışmacı anlatım biçimiyle yazılmıştır.

5.

Her dilde bilim ve tekniğin gelişen ihtiyaçlarını karşılamak için yeni terimler türetilir. Bu türetmeyi genellikle dilciler değil, mucitler yaparlar. Çünkü onlar buluşlarını ilk kez tanıtırırken bunların adlarını da koyarlar. Bu yüzden bilimin ön saflarında yer alan mucitlerin kendi dillerinin yapısını, sözcük ve terim türetme kurallarını iyi bilmeleri gerekir.

**Bu metinde mucitlerle ilgili asıl anlatılmak istenen aşağıdakilerden hangisidir?**

- A) Ana dillerine hâkim olmalılar.  
 B) İcatlar ortaya koymalılar.  
 C) Dilcilerle ortak çalışmalılar.  
 D) Hayatı kolaylaştırmalılar

6.

Aşağıdaki cümlelerde geçen altı çizili deyimlerden hangisi anlam bakımından diğerlerinden farklıdır?

- A) Gözüme çarpan ilk şey, o civardaki büyük bir yalağın yaptığı bataklıkta çömelmiş iki manda karaltısı oldu.  
 B) Sabahları duş aldıktan sonra kahvaltı sofrasına oturur, gazetelerin manşetlerini gözden geçirirdi.  
 C) Raftaki hikâye kitabının sayfalarına göz gezdirdikten sonra kitabı yerine koydu.  
 D) Raif Efendi’nin, üzerine bir şeyler çizdiği kağıdı elime aldım, buna bir göz atınca hayretimden donakaldım.

7. Aşağıda bazı kelimelerin fiilimsi ve isim olarak kullanılışlarına örnek verilmiştir.

**GEÇMİŞ**

**Fiilimsi:** Süresi geçmiş ürünleri raflardan toplayalım.

**İsim:** Artık geçmişi bir kenara bıraksak, diyordu.

**ÇAĞLAYAN**

**Fiilimsi:** Bu çağlayan suları gün boyu izleyip huzur bulurdum.

**İsim:** Kasabamızdaki çağlayan ziyaretçi akınına uğruyordu.

**DONDURMA**

**Fiilimsi:** Besinleri dondurma işleminden sonra yeni bir aşamaya geçilecek.

**İsim:** Böyle serin havalarda bile dondurma yemekten kendini alamaz.

**ÇEKECEK**

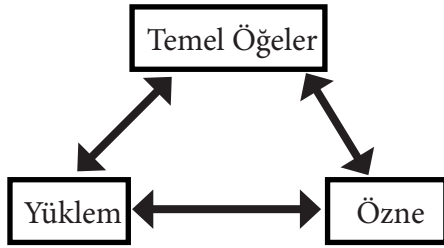
**Fiilimsi:** Şu çekeceği ver de ayakkabımı giyeyim.

**İsim:** Çekecek çilemiz varmış demek ki, dedi yaşlı kadın

**Buna göre hangi kelimenin örnek kullanılışında yanlışlık yapılmıştır?**

- A) Geçmiş                      B) Çekecek  
C) Çağlayan                  D) Dondurma

8.



Atasözlerimizden hangisi sadece temel öğelerden oluşmuştur?

- A) Canı canla ölçmeli.  
B) Mal, canın yongasıdır.  
C) Can çıkmayınca huy çıkmaz.  
D) Can vermeyen canan bulamaz.

9. I. Bu yılki tatilini güney Amerika'da geçirdi.  
II. 27 Mayıs salı günü görevinden istifa etti.  
III. Farz et ki her şey yolunda gitti.  
IV. Düzenli sporun insan sağlığına faydalarını biliyor musun?  
V. Orman yangınlarından sonra dağlar çırıl çıplak kalmıştı.  
**Yukarıdaki numaralanmış cümlelerde aşağıdakilerden hangisi ile ilgili yazım yanlışına örnek yoktur?**

- A) Yön bildiren sözcüklerin yazımı  
B) Pekiştirilmiş sözcüklerin yazımı  
C) "ki" bağlacının yazımı  
D) Gün adlarının yazımı

10.

Takımlar	O	G	B	M	A	Y	P
Andorra	10	1	1	8	3	20	
Arnavutluk	10	4	1	5	16	14	
Türkiye	10	7	2	1	18	3	
Moldova	10	1	0	9	4	26	
İzlanda	10	6	1	3	14	11	
Fransa	10	8	1	1	25	6	

Yukarıdaki tabloda 2020 UEFA Avrupa futbol şampiyonası elemeleri H grubunda yer alan ülkeler ve maç bilgileri **karışık** olarak verilmiştir.

Takımların aldığı galibiyete 3(üç), beraberliğe ise 1(bir) puan verildiği düşünüldüğünde aşağıdaki verilen bilgilerden hangisi **yanlıştır**?

- A) Moldova en az puanı alarak grupta son sırada kalmıştır.  
B) Türkiye 23 puanla grubu ikinci sırada tamamlamıştır.  
C) Fransa ile İzlanda arasında 6 puan fark vardır.  
D) Türkiye ile Arnavutluk sıralamada art arda gelmektedir.

**T C İNKILAP TARİHİ VE ATATÜRKÇÜLÜK**

1. **Amasya Genelgesi'nin bazı maddeleri şunlardır.**  
I-Vatanın bütünlüğü, milletin bağımsızlığı tehlikededir.  
II-Milletin bağımsızlığını yine milletin azmi ve kararı kurtaracaktır  
III-İstanbul Hükümeti üzerine aldığı sorumluluğu yerine getirememektedir  
IV-Her türlü etki ve denetimden uzak milli bir kurulun varlığı gereklidir.  
**Buna göre aşağıdakilerden hangisi yanlıştır?**
- A) I. madde Kurtuluş Savaşı'nın gerekçesini ortaya koymaktadır.  
B) II. madde ile üstü kapalı milli egemenlik vurgusu yapılmıştır.  
C) III. madde ile Kurtuluş Savaşı'nın yöntemi ortaya konmuştur.  
D) IV. madde ile Temsil Heyetinin kurulma fikri gündeme gelmiştir.
2. Mondros Ateşkes Antlaşmasının imzalanmasından sonra Anadolu işgale uğramıştı. Ülkeyi savunacak bir ordunun olmaması ve İstanbul Hükümetinin işgaller karşısında tepkisiz kalması üzerine istiklaline düşkün olan Türk halkı kendi bölgesini savunmak için bölgesel direniş kuvvetleri olan Kuva-yı Milliye'yi oluşturdu.  
**Sadece verilen bilgilerden hareketle aşağıdaki yorumlardan hangisi yapılamaz?**
- A) Yerel nitelikte bir kuruluş oldukları  
B) Halk tarafından oluşturuldukları  
C) Bağımsızlık duygusuyla hareket ettikleri  
D) Osmanlı Hükümeti tarafından desteklendikleri

8. SINIF KAZANIM DEĞERLENDİRME SINAVI

3. Erzurum Kongresi görüşmelerinde " Padişahlık ve halifelik makamının kurtarılacağı" gibi kongrenin milli egemenlik ruhuna ters düşen kararlar da alınmıştır. Buna göre Erzurum Kongresi kararları ile ilgili aşağıdaki hangi yargılara **ulaşılabilir?**

**I.** Saltanat yanlılarının tepkisinin hafifletilmeye çalışıldığı  
**II.** Ulusal egemenlik anlayışına ters düşen kararlar alındığı  
**III.** Birlik ve beraberliğe öncelik verildiği

- A) Yalnız I                      B) Yalnız II  
 C) I ve II                      D) I, II ve III

4. Mustafa Kemal'in Kurtuluş Savaşının hazırlık aşamasında yaptığı bazı çalışmalar şunlardır.  
 \* Halktan mitingler yapılmasını istemek,  
 \* İtilaf Devletlerine Protesto telgrafları çekilmesini istemek,  
 \* Orduya ve idari makamlara genelgeler göndermek.  
**Buna göre Mustafa Kemal'in öncelikli amacının aşağıdakilerden hangisi olduğu söylenebilir?**

- A) İşgallere karşı ulusun bilincini uyandırmak  
 B) Osmanlı Devlet idaresini ele geçirmek  
 C) Askeri mücadeleyi güçlendirmek  
 D) Ulusal egemenliğini gerçekleştirmek

5. \*Bölgedeki karışıklığın sebebi Türkler değil Rumlardır  
 \*Rumlar bölgedeki emellerinden vazgeçerlerse olaylar kendiliğinden son bulacaktır.  
 \*Bölge halkı İzmir'in işgaline şiddetle karşı çıkmakta ulusal bağımsızlık ilkesi etrafında birleşmektedir.

**Mustafa Kemal'in 22 Mayıs 1919'da Samsun'dan İstanbul Hükümeti'ne gönderdiği "Samsun Raporu"na bakılarak aşağıdaki yargılardan hangilerine ulaşılabilir?**

**I.**Olayların sorumlularının Rumlar olduğu.  
**II.**Bölge halkının yabancı işgalleri kesinlikle tasvip etmediği.  
**III.**Rumların bölgeyle ilgili amaçlarının olmadığı.

- A) I ve III                      B) Yalnız II  
 C) I ve II                      D) II ve III

6. İtilaf devletleri 16 Mart 1920'de İstanbul'u resmen işgal etmiş ve bu işgale gerekçe olarak Son Osmanlı Mebusan Meclisi'nin Misak-ı Milli kararlarını kabul etmesini göstermişlerdir. İstanbul'un işgalini Misak-ı Milli kararlarına dayandıran ve Osmanlı Mebusan Meclisi'ni dağıtarak millet iradesini hiçe sayan İngilizlerin işgal ortağı Fransızlar, tüm dünyada yankı uyandıran ve çok övündükleri Fransız İhtilali'nin hangi ilkesiyle **ters düşmüşlerdir?**

- A) Milli egemenlik              B) Milli bağımsızlık  
 C) Eşitlik                      D) Özgürlük

7. Mondros Ateşkes Antlaşması'ndan sonra Anadolu'nun işgaline karşı Türk halkı, yerel direniş örgütleri kurarak mücadele etti.

**Buna göre, Türk halkı işgaller karşısında aşağıdaki tutumlardan hangisini takınmıştır?**

**I-**Teslimiyetçi  
**II-**Milliyetçi  
**III-**Sömürgeci  
**IV-**Mücadeleci

- A) Yalnız II                      B) II ve IV  
 C) I ve III                      D) I, II ve IV

8. Erzurum Kongresi'nde alınan "Manda ve himaye kabul edilemez." kararı ile aşağıdakilerden **hangisi amaçlanmıştır?**

- A) Teknolojik gelişme      B) Millî egemenlik  
 C) Tam bağımsızlık      D) Başka ülkeye bağlanma

9.

1	Manda ve Himaye İlk defa reddedildi	→	Erzurum Kongresi
2	Tüm yararlı cemiyetler birleştirildi	→	Sivas Kongresi
3	İlk defa milli egemenliğe dayalı devlet fikri ortaya atıldı	→	Havza Genelgesi

**Yukarıda verilen bilgilerin "Doğru" ve "Yanlış" olarak sıralanışı hangi şıkta doğru verilmiştir?**

- A) 

1	Doğru
2	Doğru
3	Yanlış

                      B) 

1	Doğru
2	Yanlış
3	Yanlış
- C) 

1	Doğru
2	Doğru
3	Doğru

                      D) 

1	Yanlış
2	Doğru
3	Yanlış

10. Mustafa Kemal Amasya Genelgesinde, Osmanlı Ordularının terhis edilmemesi, silah ve teçhizatın İtilaf devletlerine teslim edilmemesi gerektiğini belirtmiştir. Bu doğrultuda 9. Ordu Müfettişliği yetkilerine dayanarak Anadolu'daki Valiliklere ve kolordulara görevden atılma pahasına, bu emri vermekten çekinmemiştir.

**Mustafa Kemal'in bu konudaki hassasiyeti aşağıdakilerden hangisini amaçladığını gösterir?**

- A) İtilaf Devletlerinin işini kolaylaştırmak istemiştir.  
 B) Kurtuluş Savaşını başlatmayı amaçlamaktadır.  
 C) İstanbul hükümetine destek vermeyi amaçlamaktadır.  
 D) Azınlıkların rahatça hareket edebilmelerini amaçlamaktadır.



## DİN KÜLTÜRÜ VE AHLAK BİLGİSİ-8

**(1 ve 2. Sorular, metne göre cevaplandırılacaktır)**

Muhammed Amca, dinen zengin olup Allah'a şükreden bir yapıya sahiptir. Bu sebeple malını mülkünü hesaplayıp zekât vermek istemektedir. Malını hesaplarken yanına 8. Sınıfta okuyan torunu Hüseyin gelir ve koyu bir sohbet başlarlar.

**Hüseyin;** - Ne yapıyorsun dedeciğim?

**Muhammed Amca;** - Biliyorsun; Allah gücü yetenlere zekât vermeyi emretmiştir. Ben de ne kadar zekât vermemiz gerektiğini öğrenmek için hesap yapıyorum evladım.

**Hüseyin;** - Hepsini verelim mi dedeciğim, n'olur? Bunun üzerine,

**dedesi;** -"....." ayetini okur ve "hayır" cevabını verir.

**Dedesi ;** Peki, sen söyle bakayım; zekâtımızı kimlere verebiliriz?

**Hüseyin;** - "(I) Yolda kalmış olan zengine, (II) borç baştağında bulunan Fenerbahçe Spor Kulübü'ne, (III) kalbi İslam'a ısındırılacak olan fakir komşumuz Ariel amcalara, (IV) sokakta yaşamak zorunda olan kimsesizlere, (V) has-tane masraflarını karşılamakta zorlanan Fatma teyzelere verebiliriz dedeciğim" şeklinde cevap vermiştir.

**1. Hüseyin, "zekâtımızı kimlere verebiliriz?" sorusuna cevap verirken kaç tane yanlış bilgi vermiştir?**

- A) 1                              B) 2  
C) 3                              D) 4

**2. Muhammed Amca, yukarıda boş bırakılan yerde aşağıdaki ayetlerden hangisini okumuştur?**

- A) "Sadakaları açıkta verirseniz ne iyi; fakat gizleyip fakirlere verirseniz bu, sizin için daha hayırlıdır. O, günahlarınızdan bir kısmını bağışlar. Allah, yaptıklarınızdan haberi olandır. **(Bakara Suresi, 271)**
- B) "Güzel bir söz ve bağışlama, peşinden eziyet gelen bir sadakadan daha hayırlıdır. Allah hiçbir şeye ihtiyacı olmayandır, yumuşakdavranandır."**(Bakara Suresi, 263)**
- C) "Eli sıkı olma; büsbütün eli açık da olma. Sonra kınanır, (kaybettiklerinin) hasretini çeker durursun."**(İsra suresi, 29)**
- D) "Hâlbuki onlara, ancak dini Allah'a has kılarak, hakka yönelen kimseler olarak O'na kulluk etmeleri, namazı kılmaları ve zekâtı vermeleri emredilmiştir. İşte bu doğru dindir."**(Beyyine suresi, 5)**

**3. Erva arkadaşısı Meryem'e "evet senin gibi çalışmadım ve LGS'de başarılı olamadım ancak kaderim böyleymiş, çok şanssızım ne yapayım" demiştir.**

**Erva, kader hakkında hangi noktada yanlış bilgiye sahiptir?**

- A) Allah'ın her şeyi bildiğini düşünmesi  
B) Gelecekteki olayların bilinemeyeceğini sanması.  
C) Allah'ın alın yazımızı belirlediğini düşünmesi  
D) Kaderimizi seçebildiğimizi sanması

4. ABD, beraberindeki ülkelerle birlikte Suriye'ye, demokrasi götürme bahanesiyle saldırıp işgal etti. O gün bugündür halk, patlayan bombaların fon müziğiyle yaşamaktadır. Halk, vaad edilen demokratik yaşamı beklerken bir lokma ekmek bulmak artık hayal olmuştu. Onları bu hale getiren emperyalist güçler ise kendi demokratik ülkelerinde ya golf oynadılar ya da Amerikan futbolu. Halkın bu perişan durumu karşısında Suriyeli din âlimleri, "hayatta kalmak için köpek, at ve eşek etini yemek, caizdir" fetvasını yayınladılar. Suriye'de bunlar yaşanırken Müslüman ülkeler çaresiz, Batılı ülkeler ise zevkle seyrettiler. Belki de herkesin unuttuğu bir şey vardı; o da, herkesin bu imtihanın bir parçası olduğuydu.

**Yukarıda yaşananların bir imtihan olduğu düşünüldüğünde, Müslüman ülke halklarına sorumluluklarını hatırlatmak amacıyla aşağıdaki ayet veya hadislerden hangisi okunmaz?**

- A) Herhangi birinize ölüm gelip de, "Ey Rabbim! Beni yakın bir zamana kadar geciktirsen de sadaka verip iyilerden olsam!" demeden önce, size rızık olarak verdiğimiz şeylerden Allah yolunda harcayın. **(Münafikun Suresi, 10)**
- B) Sana Allah yolunda ne harcayacaklarını soruyorlar. De ki: "Hayır olarak ne harcarsanız o, ana-baba, akraba, yetimler, fakirler ve yolda kalmışlar içindir. Hayır olarak ne yaparsanız, gerçekten Allah onu hakkıyla bilir." **(Bakara Suresi, 215)**
- C) "Bir mümin, aç bir mümini doyurursa, Allah da o kimseyi cennet meyveleriyle doyuracaktır. Yine bir mümin, susuz kalan bir mümine bir şeyler içirip susuzluğunu giderirse, Allah kıyamette ona içirecektir..." **(Tirmizî, Kıyâme, 18)**
- D) Yetimin malına, ergenliğe erinceye kadar, ancak en güzel bir niyetle yaklaşın. Verdiğiniz sözü de yerine getirin. Çünkü verilen söz, sorumluluğu gerektirir. **(İsra Suresi, 34)**

**5. Zekâtın özel şartı; nisaptır. Nisap, dinen zengin olma ölçüsü olup zekât ve kurban ibadetlerinde aranan şartlar arasında yer almaktadır.**

**Aşağıda nisap kavramı ile ilgili verilen tanımlardan hangisi doğrudur?**

- A) Bir kişinin temel ihtiyaçlarının haricinde en az 185 gr altına veya o değerde bir paraya sahip olup üzerinden bir yılın geçmesidir.
- B) Bir kişinin temel ihtiyaçlarıyla beraber en az 85 gr altına veya o değerde bir paraya sahip olup üzerinden bir yılın geçmesidir.
- C) Bir kişinin temel ihtiyaçlarının haricinde en az 85 gr altına veya o değerde bir paraya sahip olup üzerinden bir yılın geçmesidir.
- D) Bir kişinin temel ihtiyaçlarının dışında en az 85 gr altına veya o değerde bir paraya sahip olup üzerinden iki yılın geçmesidir.

6. Öğretmen sınıfta zekât ve sadaka konusunu işlerken; zekât ve sadakanın İslam dinindeki yerini belirttiikten sonra zekât ve sadakaları verirken nelere dikkat edilmesi gerektiğini anlatır. Öğrencilerden de araştırma ödevi olarak konu ile ilgili birer ayet bulmalarını ister.

**Umut:** “Güzel bir söz ve bağışlama, peşinden eziyet gelen bir sadakadan daha hayırlıdır. Allah hiçbir şeye ihtiyacı olmayandır, yumuşak davranandır.”

(Bakara Suresi, 263)

**Zeynep:** “Sadakaları açıkta verirsiniz ne iyi; fakat gizleyip fakirlere verirsiniz bu, sizin için daha hayırlıdır. O, günahlarınızdan bir kısmını bağışlar. Allah, yaptıklarınızdan haberi olandır.” (Bakara Suresi, 271)

**Eda:** “Sadakalar, -Allah'tan bir farz olarak- yalnızca fakirler, düşkünler, (zekât) işinde görevli olanlar, kalpleri ısındırılacaklar, köleler, borçlular, Allah yolunda (olanlar) ve yolda kalmış(lar) içindir. Allah bilendir, hüküm ve hikmet sahibidir.”

(Tevbe Suresi, 60)

**Zehra:** “Ey iman edenler! Kazandıklarınızın iyilerinden ve yerden sizin için çıkardıklarımızdan Allah yolunda harcayın. Kendinizin göz yummadan alıcısı olmayacağınıza bayağı şeyleri vermeye kalkışmayın ve bilin ki Allah, her bakımdan zengindir, övülmeye layıktır.”

(Bakara Suresi, 267)

**Yukarıda hangi öğrencinin bulunduğu ayet konu ile ilgili değildir?**

- A) Umut    B) Zeynep  
C) Eda    D) Zehra

7. Hamdi Bey bahçesinde bir yandan çalışırken bir yandan da fazlalık malını-parasını hesaplıyordu. Çünkü zekât verme zamanı gelmişti. Bu sırada kurye bahçeye ait su ve elektrik faturasını getirdi. Hamdi Bey faturaların biraz yüklü geldiğini mırıldanarak yıllık maliyetinin 8 bin lirayı bulunduğunu söylüyordu. Kurye ise gülümseyerek hayırlı işler diler ve oradan ayrılır. Hamdi Bey ise hesap yapmaya kaldığı yerden devam etti. Ortaya şöyle bir hesap çıkmıştır:

**70 koyun, 60 inek, 20 ton şeker pancarı, 40 bin lira para**

Hamdi Bey, ne kadar zekât vereceğini öğrenmek için yaptığı hesaba göre; toplam 4 koyun, 5 inek, 1 ton pancar ve bin liralık bir zekât miktarı ortaya çıkmıştır. Bu hesaba şahit olan torunu Buket, dedesine hesapta yanlışlık yaptığını söylemiş ve “istiyorsan sana doğru bir hesap yapabilirim” demiştir. Hamdi Bey de sevinerek “tabi ki güzel evladım” der ve soğuk ayranını yudumlamaya devam eder. Hamdi Bey, torunu Buket’in çıkardığı hesabı, il müftülüğünü arayarak kontrol ettirir ve hesabın doğru olduğunu öğrenir.

**Yukarıdaki metne göre Buket’in hesapladığı zekât miktarı aşağıdakilerden hangisidir?**

- A) 1 koyun – 2 inek – 2 ton pancar – 1000 lira  
B) 3 koyun – 3 inek – 2 ton pancar – 2000 lira  
C) 4 koyun – 3 inek – 2 ton pancar – 2000 lira  
D) 1 koyun – 2 inek – 1 ton pancar – 1000 lira

8. Fiziksel yasalar; madde ve enerjinin oluşumu, değişimi yapısı, hareketi ve maddeler arası ilişkilerle ilgili yasalardır. Deney, gözlem, araştırmalar neticesinde anlaşılabilir ve evrensel bir niteliğe sahip olup değişmezdir.

**Aşağıdaki ayetlerden hangisi buna örnek verilemez?**

- A) “Şüphesiz Allah, adaleti, iyilik yapmayı, yakınlarla yardım etmeyi emreder; hayâsızlığı, fenalık ve azgınlığı da yasaklar...” (Nahl Suresi, 90)  
B) “...(Güneş ve Ay’dan) her biri, belirlenmiş bir süreye kadar hareketlerini sürdürürler...” (Fâtır Suresi, 13)  
C) “... Onun koyduğu yasalarla denizde akıp gitsin diye gemileri de hizmetinize verdi...” (İbrahim Suresi, 32)  
D) “O, geceyi, gündüzü, güneşi ve ayı yaratandır. Bunların her biri bir yörüngede yüzmektedirler.” (Enbiyâ Suresi, 33)

9. Allah (c.c.) evrendeki her şeyi ölçülü düzenli bir şekilde yaratmıştır. Evrende geliş güzel yaratılan hiçbir şey yoktur.

**Aşağıdaki ayetlerden hangisi bu düşüncüyü destekleyen bir delil olarak gösterilebilir?**

- A) “De: ki ‘En üstün delil yalnızca Allah’ındır. O, dileseydi elbette sizin hepimizi doğru yola iletirdi.” (En’am Suresi, 149)  
B) “O, yedi göğü tabaka tabaka yaratandır. Rahmân’ın yaratışında hiçbir uyumsuzluk göremezsin. Bir kere daha bak! Hiçbir çatlak ve düzensizlik görüyor musun?” (Mülk Suresi, 3)  
C) “Sizin hanginizin daha güzel davranacağını sınımak için ölümü ve hayatı yaratan O’dur.” (Mülk Suresi, 2)  
D) “Allah, inanıp iyi işler yapanları ödüllendirir. Onlar için büyük bir bağışlanma ve güzel bir rızık vardır.” (Sebe Suresi, 4)

10. Meryem Erva: Abi ben kader konusunda insanın ve evrenin kaderle ilişkisinin farklı olduğunu ve evrendeki kaderi (evrensel yasaları) anladım. Ancak insanın kader ile ilişkisini Yüce kitabımızdan bir ayetle bana ifade edebilir misin?

Muhammet Eymen: Bak güzel kardeşim “.....”

**Muhammet Eymen, kardeşi Meryem Erva’ya**

**hangi ayeti okursa doğru bir seçim yapmış olur?**

- A) De ki: “Şüphesiz benim namazım da, diğer ibadetlerim de, yaşamam da, ölümüm de hepsi Âlemlerin Rabbi Allah içindir.” (En’am Suresi, 162)  
B) “Biz her insanın kaderini kendi çabasına bağlı kıldık.” (İsra Suresi, 13)  
C) Ve onu ummadığı yerden rızıklandırır. Kim Allah’a güvenirse O, ona yeter. Allah, emrini yerine getirendir. Allah her şey için bir ölçü koymuştur. (Talak Suresi, 3)  
D) “...iyilik ve takva (Allah’a karşı gelmekten sakınma) üzere yardımlaşın. Ama günah ve düşmanlık üzere yardımlaşmayın...” (Mâide Suresi, 2)

## İNGİLİZCE DERSİ

1. Özer's English teacher gave him a project about friendship. He must find some proverbs about friendship. He goes to the library and write some of them to his notebook. Here are the proverbs.

- 1-A man is known by his friends  
2-False friends are worse than open enemies  
3- A man who has friends must himself be friendly  
4- A friend's eye is a good mirror

**Which of the sentences above has the same meaning with this underlined sentence?**

**If someone wants to have a true friend he/she must be a good person first.**

- A) 1      B) 2      C) 3      D) 4

2. Here are Sema's opinions about her classmates .

**Zehra** : I think she is a cool girl. She is an outgoing person because she has got a lot of friends. When I spend time with her she always makes funny jokes. However, she needs to learn keeping secrets.

**Seher** : I get on well with her. She is a good buddy. She helps me whenever I need help but she is a talkative person and she likes talking about every details. So, it is sometimes boring to spend time with her.

**Esmâ** : Esmâ and I are very close and we never argue. I always count on her. She doesn't share my secrets. We both have similar interests. Spending time with her is enjoyable for me.

**Kübra** : She is a sneaky and jealous girl. I don't trust her because she always tells lies to me. She is not my buddy.

**According to the given information, after Sema graduates from school, who she will miss most?**

- A) Zehra                      B) Seher  
C) Esmâ                      D) Kübra

3. **Metin**: What kind of books do you prefer reading?

**Çetin**: I prefer travel books because I like exploring different countries and cultures. What about you?

**Metin**: I like.....books because I want to learn about famous people's life.

**Fill in the blank with correct book type**

- A) Biography              B) Fantasy  
C) Sci-Fi                      D) Detectives

4.

?	?
Grater	Bake
Spoon	Boil
Pot	Grill
Frying pan	Steam

**Which of the following can be the headings for the categories?**

- A) Ingredients-kitchen tools  
B) Kitchen tools-ingredients  
C) Kitchen tools- cooking methods  
D) International dishes-cooking verbs

5. Hello. I am Murat. I like visiting my cousins . I visit them three times a week. I love eating dinner with them. My aunt cooks very delicious meals. I like chatting with my aunt and cousins. I always learn new things from them. It is always fun to spend time with them.

**According to the passage, which question DOES NOT have an answer ?**

- A) Does he like his cousins?  
B) Why does he like visiting them?  
C) How often does he visit them ?  
D) When does he visit them ?

6. **I.** Next, peel and slice the potatoes

**II.** Finally, turn off the stove and take them on a plate

**III.**Then, pour and heat the oil

**IV.**After that, fry the potatoes about six or seven minutes

**V.** First, put the frying pan on the stove

**Put the recipe in order.**

- A) IV, I, V, II, III      B) V,I, II, IV, III  
C) V, III, I, IV, II      D) V, III, IV, II, I

7. **Which of the following matching is wrong?**

- A) Tsp: the short form of teaspoon  
B) Seaweed: a plant that grows in the sea  
C) Sprinkle: to drop a few pieces of something over a surface  
D) Dish: a type of thin plastic to cover food

8. Biryani is the most popular meal in India. It is a kind of rice(pilaf).There are chicken or fish and various spices in it like cinnamon, cumin, red pepper. People cook it at low heat for about 20 minutes. They serve it warm. **Which of the following is not mentioned in the text?**

- A) Recipe of the meal  
B) Tools of the meal  
C) Ingredients of the meal  
D) Cooking time of meal

9. A delicious pasta recipe

First, put some water into a pan and boil it. Then, add your pasta into the water. Cook it for ten or fifteen minutes. Next strain your boiled pasta. After that chop a tomato and add it into a saucepan. Finally , mix them and enjoy it.

**Which kitchen tool you don't need to cook pasta?**

- A) Pan                      B) Saucepan  
C) Knife                      D) Grater

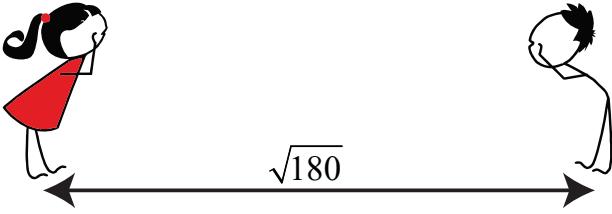
10. I usually try to read books in the afternoons. I often read adventure and sci-fi books that are about future. However I have no interest in love stories or novels. I hate them. To be honest I.....

**Choose the best option to complete the sentence.**

- A) am keen on them  
B) think they are unbearable  
C) think they are terrific  
D) am fond of them

## MATEMATİK DERSİ

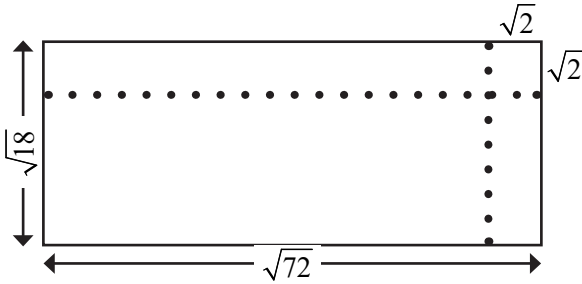
1.



Aralarında  $\sqrt{180}$  m mesafe bulunan Ayşe ve Ali birbirlerine doğru hareket ediyorlar. Ayşe  $\sqrt{20}$  m, Ali ise  $\sqrt{5}$  m yürüdüğüne, aralarında kaç metre mesafe kalır?

- A)  $\sqrt{155}$  B)  $\sqrt{125}$  C)  $\sqrt{80}$  D)  $\sqrt{45}$

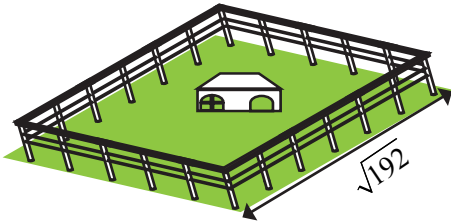
2.



Uzun kenarı  $\sqrt{72}$  cm ve kısa kenarı  $\sqrt{18}$  cm olan dikdörtgen şeklindeki kartonun, kısa kenarı ve uzun kenarı boyunca  $\sqrt{2}$  cm'lik şeritler şekildeki gibi kesilip atılıyor. Kalan parçanın çevresinin uzunluğu kaç cm dir?

- A)  $9\sqrt{2}$  B)  $13\sqrt{2}$  C)  $14\sqrt{2}$  D)  $16\sqrt{2}$

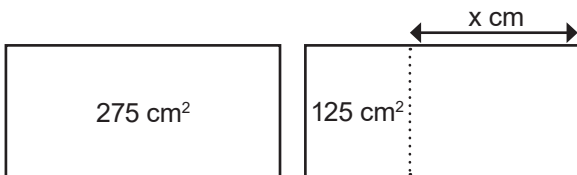
3.



Yukarıda içerisinde bir evin bulunduğu dikdörtgen şeklindeki bahçenin kısa kenarı  $\sqrt{192}$  metredir. Bu bahçenin alanı metrekare cinsinden doğal sayı olduğuna göre uzun kenarı aşağıdakilerden hangisi olabilir?

- A)  $\sqrt{256} m$  B)  $\sqrt{288} m$  C)  $\sqrt{300} m$  D)  $\sqrt{320} m$

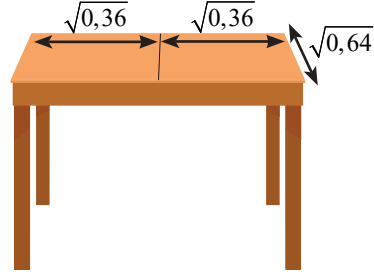
4.



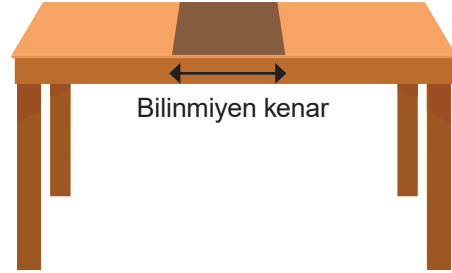
Melis şekil – 1'deki gibi alanı  $275 \text{ cm}^2$  olan dikdörtgen şeklindeki kağıdın şekil – 2'deki gibi alanı  $125 \text{ cm}^2$  olan kare şeklindeki parçasını kesmiştir. Buna göre kalan parçanın 'x' ile gösterilen uzunluğu kaç cm'dir?

- A)  $5\sqrt{3}$  B)  $6\sqrt{3}$  C)  $5\sqrt{6}$  D)  $6\sqrt{5}$

5. Aşağıda üst yüzeyi dikdörtgen biçiminde olan açılabilir bir masa gösterilmiştir.



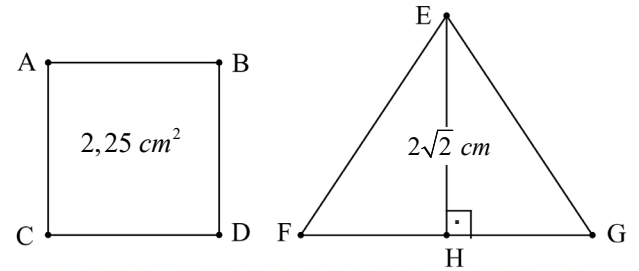
Bu masa açıldığında ortada kalan bölgenin bilinmeyen kenarının uzunluğu masanın üst yüzeyinin kısa kenarının uzunluğunun yarısıdır.



Buna göre bu masanın açılmış halinin üst yüzeyinin alanı kaç  $\text{m}^2$  dir?

- A) 0,32 B) 0,64 C) 0,96 D) 1,28

6.



Yukarıdaki şekillerde ABCD kare ve EFG eşkenar üçgendir. ABCD karesi ile EFG eşkenar üçgeninin çevre uzunlukları birbirine eşittir. Karenin alanı  $2,25 \text{ cm}^2$  ve üçgenin yüksekliği  $2\sqrt{2}$  cm olduğuna göre, EFG üçgeninin alanı kaç santimetrekaredir?

- A)  $\sqrt{2}$  B)  $2\sqrt{2}$  C)  $3\sqrt{2}$  D)  $4\sqrt{2}$

7.

	Tam Sayı	Rasyonel Sayı	İrrasyonel sayı	Gerçek Sayı
$\sqrt{81}$				
$-\sqrt{1,7}$				
$-3\sqrt{2}$				
$\pi$				
2,44...				
0,103...				

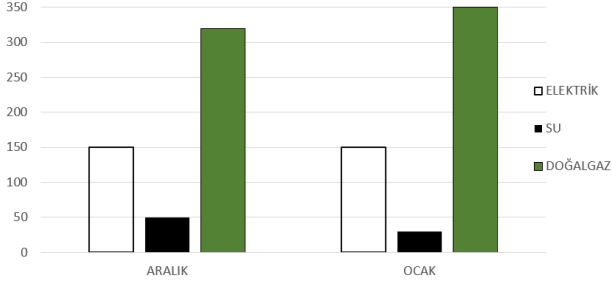
Yukarıdaki tabloda verilen sayıların ait olduğu sayı gruplarının bulunduğu kutucuklara ✓ işareti konulacaktır. Buna göre kullanılacak ✓ sayısı kaçtır?

- A) 14 B) 13 C) 12 D) 11



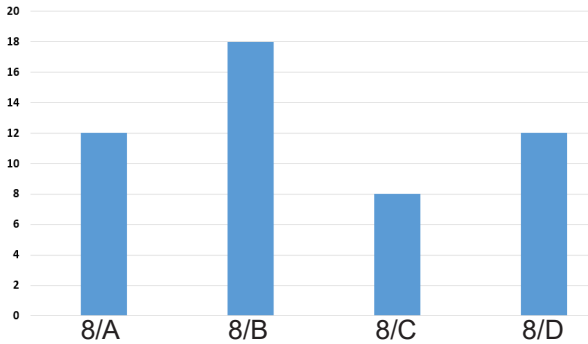
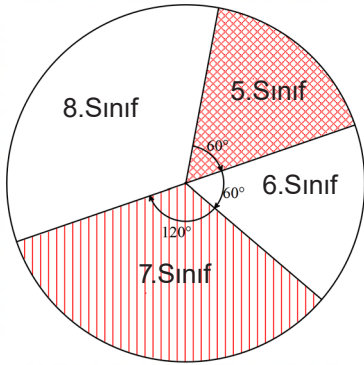
## 8. SINIF KAZANIM DEĞERLENDİRME SINAVI

8. Aşağıdaki grafik, bir ailenin aralık ve ocak aylarına ait fatura tutarlarını göstermektedir.



Bu grafiğe göre, aşağıdakilerden hangisi söylenemez?

- A) Ocak ayı aralık ayından daha soğuk geçmiştir.  
 B) Bu aileye aralık ayında gelen faturaların toplam tutarı 500 TL'den fazladır.  
 C) Aralık ayında gelen elektrik faturası ocak ayında gelen doğalgaz faturasından 200 TL azdır.  
 D) Ocak ayında bir önceki aya göre üç faturada da artış olmuştur.
9. Bir okuldaki seçmeli matematik uygulamaları dersinin sınıf bazında ve 8. sınıflarda şube bazında seçilme oranları aşağıdaki grafiklerde verilmiştir.



Yukarıdaki grafiklere göre bu okulda toplam kaç öğrenci matematik uygulamaları dersini seçmiştir?

- A) 150 B) 140 C) 130 D) 120

10. LGS iki ana bölüm olan sayısal ve sözel bölümden oluşmaktadır. Sayısal bölüm 20 Fen Bilimleri ve 20 matematik sorusundan; sözel bölüm ise 20 Türkçe, 10 Din Kültürü ve Ahlak Bilgisi, 10 İnkılâp Tarihi ve 10 İngilizce sorusundan oluşmaktadır. Sözel ve sayısal bölümlerdeki sorular derslere göre ayrı iki daire grafiği ile gösterilirse; Türkçe dersinin sözel bölüm içerisindeki oranını gösteren daire diliminin merkez açısı, Matematik dersinin sayısal bölüm içerisindeki oranını gösteren daire diliminin merkez açısından kaç derece eksiktir?

- A) 36 B) 18 C) 12 D) 10

## FEN BİLİMLERİ DERSİ

1. İngiltere'de endüstri devriminin başladığı sıralarda, ağaçların kabukları açık renklidir. Bu nedenle bu ağaçların üzerlerine konan koyu renkli güve kelekleri, bunlarla beslenen kuşlar tarafından kolayca fark edilirler ve dolayısıyla yaşama ihtimalleri çok azalır. Fakat elli yıl sonra endüstri kirliliğinin sonucunda ağaçların üzerindeki açık renkli yosunların ölmesiyle kabukları koyulaşır ve buna bağlı olarak bu kez açık renkli güveler kuşlar tarafından sık olarak avlanmaya başlarlar. Sonuçta açık renkli kelek sayıca azalırken, koyu renkliler fark edilmedikleri için çoğalırlar.

**Yukarıda verilen olaya göre güve keleklerinde görülen bu durum aşağıda verilen hangi kavram tarafından açıklanabilir?**

- A) Modifikasyon B) Mutasyon  
 C) Doğal Seçilim D) Varyasyon

2. **Bitkilerde Klorofilin Oluşumu**

Klorofil sentezleme genini bulunduran bitki ışık alan ortamda büyütülürse klorofil sentezler ve rengi yeşil olur. Bitki eğer ışık almayan bir ortamda büyütülürse klorofil sentezleyemez.

Bitkilerin büyümesi ve gelişmesi için ışık gereklidir. Klorofil geni taşıyan bitki tohumu karanlık ortamda çimlendirilirse klorofil sentezleyemez. Klorofil sentezi için ışık gereklidir. Bitki ışıklı ortamda bırakılırsa klorofil sentezler ve yeşil renkli olur.

**Yukarıdaki bilimsel yazıya göre aşağıdaki olgulardan hangisi gerçekleşmiştir?**

- A) Adaptasyon B) Modifikasyon  
 C) Mutasyon D) Doğal Seçilim

3. Bilim insanlarının yaptıkları çalışmalarda Pankreas hücrelerinden alınan ve insülin üretimini kontrol eden gen bakterilere aktarılmış ve böylece bakterilerin insülin hormonu üretmesi sağlanmıştır.

**Bilim insanlarının bu çalışması ile ilgili olarak aşağıdakilerden hangisi söylenemez?**

- A) Bakteriler yeni özellikler kazanmıştır.  
 B) Yapılan çalışma gen transferidir.  
 C) Yapılan çalışmada biyoteknolojik yöntemler kullanılmıştır.  
 D) Bakterilerin genetik yapısı tamamen değiştirilmiştir.



Himalaya tavşanlarında kuyruk, kulak ve ayak uçları siyah, vücudun diğer kısımları beyaz renklidir. Bir deneyde Himalaya tavşanının sırt bölgesindeki bir alan tıraş edilip bu kısma buz yastığı konmuştur. Bu bölgede yeni çıkan kılların siyah olduğu görülmüştür.

**Deneyin bundan sonraki aşamalarında;**

**I)** Sırtındaki siyah bölge oluşturulan başka bir tavşanın doğal üreme ortamında üremesiyle oluşan yavruların kıl renklerinin Himalaya tavşanlarının normal kıl renklerinde olması

**II)** Deneye tabi tutulan tavşan, sırt bölgesinde çıkan siyah kıllar tıraş edildikten sonra, doğal ortama bırakıldığında bu bölgede tekrar beyaz kılların çıkması

**III)** Başka bir tavşanın sırt kılları tıraş edilip bu bölgeye sıcak yastık uygulanması sonucunda bölgede beyaz kılların çıkması

**halinde, bunlardan hangileri modifikasyon kanıtı olarak kullanılabilir?**

- A) I ve II                      B) I ve III  
C) II ve III                     D) I, II ve III

5.



Yukarıdaki görselde farklı bölgelerde yaşayan tilkiler verilmiştir. Tilkilerin kulak yapılarının farklı olması; bu canlıların yaşadığı bölgelerde beslenme, barınma, iklim koşullarına uyma, üreme ve avlanma şanslarını artırmalarını sağlayan özelliklerden bazılarıdır.

**Aşağıdaki olaylardan hangisi bu durumla benzerlik göstermez?**

- A) Bukalemunun renk değiştirme özelliğine sahip olması.  
B) Bir farede X ışınlarından dolayı kanser olması.  
C) Köpek balığının karın bölgesinin açık renk, sırt bölgesinin koyu renkli olması.  
D) Bazı kelebek kanatlarının yırtıcı hayvan figürlerine sahip olması.
6. Bazı maddelerin yüzeyleri, cisimlere fazla basınç uygulayarak işlerimizde kolaylık sağlar. **Buna göre günlük hayatta kullandığımız aşağıdaki aletlerden hangisi diğerlerinden farklıdır?**
- A) İğne                      B) Çekiç  
C) Bıçak                     D) Balta

7.

I	Ortanca çiçeklerinin asidik toprakta kırmızı renkli, bazik toprakta mavi renkli olması
II	Albino hastası bir çocuk
III	Altı parmaklı olan bir adam
IV	Arı larvalarından arı sütüyle beslenenlerin kraliçe arı, polenlerle beslenenlerin işçi arı olması

**Yukarıda numaralandırılmış örneklerden modifikasyon olanlar ve mutasyon sonucu oluşanlar aşağıdakilerden hangisinde doğru olarak verilmiştir?**

	Modifikasyon	Mutasyon
A)	I ve II	III ve IV
B)	II ve IV	I ve III
C)	I ve IV	II ve III
D)	II ve III	I ve IV

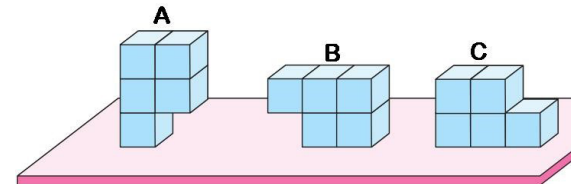
8.

Kutupta yaşayan soğuğa dayanıklı bir balık türünün soğuğa karşı dayanıklılık sağlayan geni, soğuğa dayanıklı olmayan salatalık bitkisinin zigotuna aktarılmıştır. Bu şekilde çok düşük sıcaklıklarda bile salatalık yetiştirilebilmektedir.

**Yukarıda bahsedilen çalışmadan elde edilen sonuçlarla ilgili aşağıdaki çıkarımlardan hangisine ulaşamaz?**

- A) Bu gen aktarılmayan salatalıklar soğuğa karşı dayanıksızdır.  
B) Bu gen farklı canlılarda da işlev görebilir.  
C) Gen aktarımı ile salatalık kalıtsal özellikleri değişir.  
D) Yapılan çalışma biyoteknoloji uygulamalarına örnek gösterilebilir.

9.



Özdeş küplerden oluşturulmuş A, B ve C cisimlerinin yatay düzleme uyguladıkları basınçlar  $P_A$ ,  $P_B$  ve  $P_C$  dir(P: Basınç).

**Buna göre aşağıdakilerden hangisi doğrudur?**

- A)  $P_C > P_B > P_A$                       B)  $P_A = P_B = P_C$   
C)  $P_B > P_A = P_C$                      D)  $P_A > P_B > P_C$

10.

Bir öğrenci kalemin sivri ucunu hafifçe eline bastırıyor. Daha sonra aynı kalemin arka tarafını eline bastırıyor, ilk durumda batma hissinin daha kuvvetli olduğunu keşfediyor.

**Bu deneyi yapan öğrenci aşağıdaki sonuçların hangisine ulaşabilir?**

- A) Temas yüzeyi büyüdükçe basınç artar.  
B) Baskı kuvveti arttıkça basınç artar.  
C) Temas yüzeyi küçüldükçe basınç artar.  
D) Sivri uçlar her zaman batır.